



# LKPD NUMERASI

## ANALISIS DATA

### Hari Ke-1



Nama : .....

Kelas : .....

Tanggal : .....

#### TUJUAN PEMBELAJARAN

1. Peserta didik dapat membaca data
2. Peserta didik dapat mengetahui fungsi data dalam kehidupan sehari-hari









#### Ayo Mengamati !

Perhatikan data berikut!

Berikut adalah data buah favorit siswa kelas 3.

Data merupakan kumpulan informasi atau keterangan tentang sesuatu yang diperoleh dari pengamatan, pencatatan, atau pertanyaan.

Data membantu kita untuk mengambil keputusan yang tepat

	Apel	:		( 8 siswa )
	Mangga	:		( 10 siswa )
	Pisang	:		( 4 siswa )
	Jeruk	:		( 5 siswa )

#### Ayo Memahami !

Jawablah pertanyaan berikut berdasarkan data diatas !

1. Apa yang dimaksud dengan data?

Jawab: .....

2. Data pada gambar diatas menunjukkan tentang apa?

Jawab: .....

3. Minuman apa yang paling banyak disukai?

Jawab: .....

4. Menurutmu, kenapa kita harus mengumpulkan data?

Jawab: .....