

# CÍRCULO Y CIRCUNFERENCIA

Elige la opción correcta

La  es una línea curva, cerrada y plana cuyos puntos están a igual distancia del centro.

El  es la superficie interior de una circunferencia.

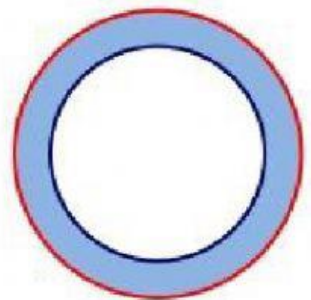
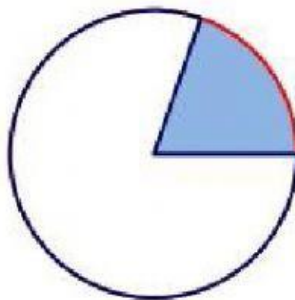


Arrastra para identificar los distintos elementos.

SECTOR CIRCULAR

CIRCUNFERENCIA

CORONA CIRCULAR

CÍRCULO



Escribe el nombre de los elementos de la circunferencia.

