

Tugas Lembar Kerja Peserta Didik

Nama = Lysandra Thea Setyawan

NIM/ kelas = 2552000092 / 2c

Mata kuliah = Pembelajaran berbasis TIK

Dosen pembimbing = Nuratri Kurnia Sari M.Pd


pilihan ganda



1. Ada 2 burung hinggap di pohon. Kemudian, datang lagi 1 burung ikut hinggap di pohon yang sama. Berapa jumlah semua burung di pohon sekarang?





2. Dibawah ini mana yang menunjukkan bangun datar persegi panjang ?






3. Tian memiliki 4 donat, lalu ia memakan 1 donat, dan memberikan 1 donat ke thea. berapakah sisa donat tian?



Soal esay

1. Kakak membeli cermin dengan bentuk persegi, panjang sisinya 5 cm, berapakah keliling cermin yang kakak beli?

2. Apa nama bangun dibawah ini?

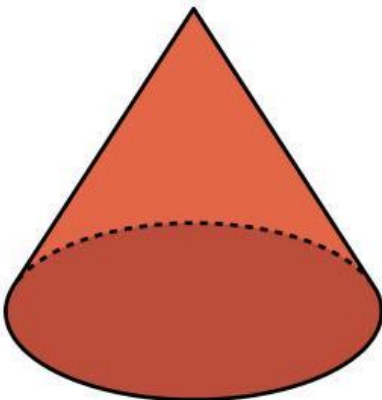




3. Segitiga merupakan salah satu bentuk dari?



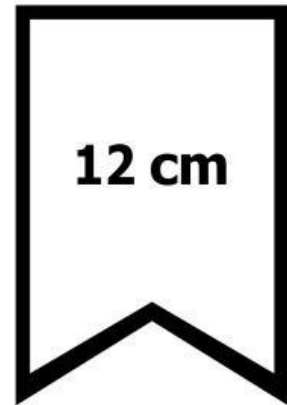
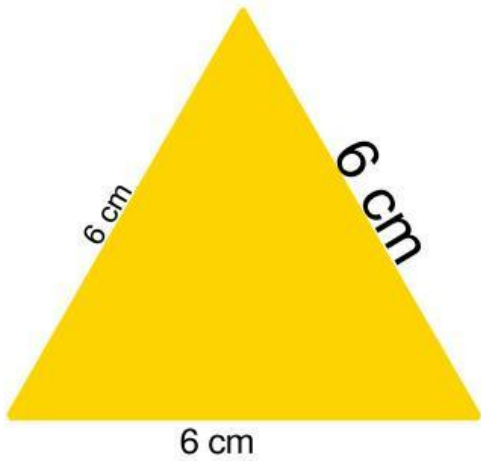


Join arrow

1. Jodohkan gambar dengan jenis bangunnya,
dengan cara menarik garis penghubung

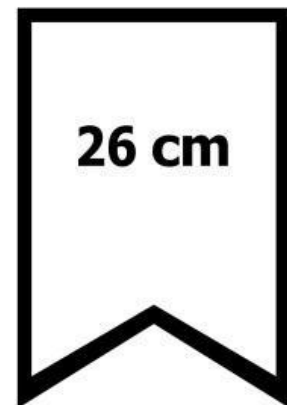


2. Jodohkan antara hasil dari keliling bangun datar dan bangun datarnya dengan cara menarik garis penghubung!

3 cm



8 cm





3. Jodohkan bangun datar dibawah dengan jumlah sisinya !

Empat (4)

Lima (5)

Enam (6)



4. Jodohkan waktu pada jam dibawah ini!

09.00
/21.00

07.05
/19.05

03.00
/15.00



5. Jodohkan gambar uang di bawah ini dengan nominalnya?!



Rp. 7.000



Rp. 105.000



Rp. 202.000

Soal mengelompokkan

Kelompokkan benda dibawah ini dengan bentuk bangun datarnya !



Lingkaran

Segitiga

persegi