
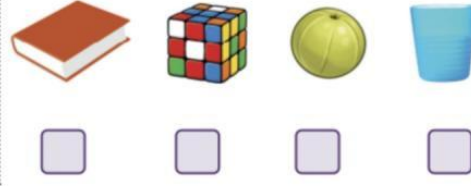


சரியான விடையை (✓) செய்க.


1. தட்டையான முகங்களைக் கொண்ட பொருள் எது?




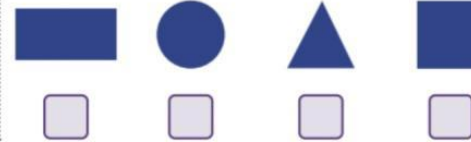
2. வளைவான முகத்தை மட்டும் கொண்ட பொருள் எது?



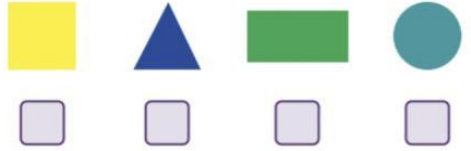
3.  இன் நிழல் வடிவம் எது?



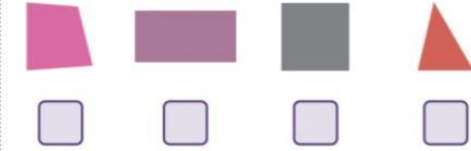
4.  -ஐ அச்சுப் பதித்தால் கிடைக்கும் வடிவம் எது?



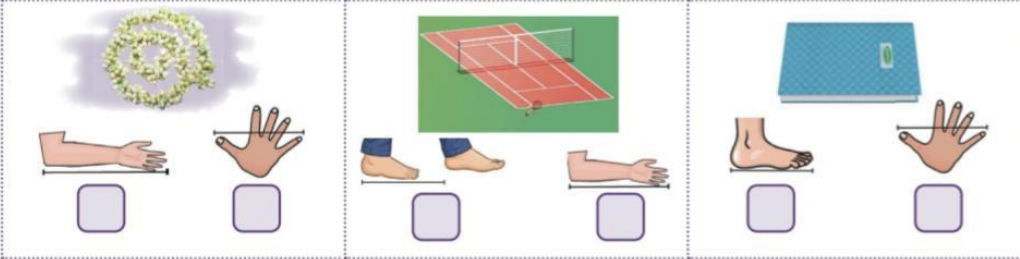
5. நேர் விளிம்பு இல்லாத வடிவம் எது?



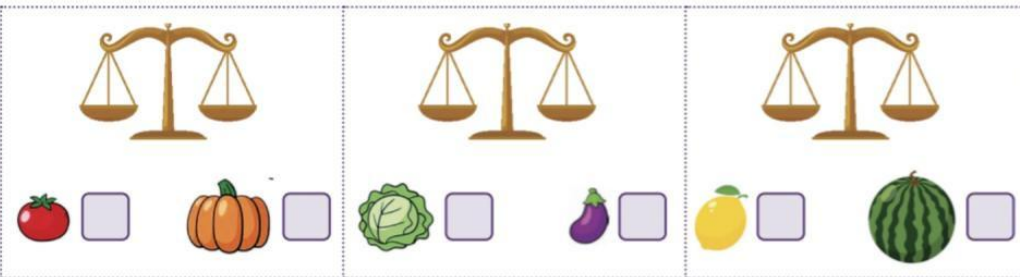
6. அனைத்துப் பக்கங்களும் சமமாக உள்ள வடிவம் எது?



நீளத்தை அளவிட உதவும் பொருத்தமான அளவையை (✓) செய்க.



பொருத்தமான குறியீடுகளைக் ↓ ↑ கொண்டு நிரப்புக.



எந்த பொருத்தமான பாத்திரத்தைக் கொண்டு விரைவாக நீரை நிரப்புவாய் என (✓) செய்க.

