


LKPD

Matematika

Tema:

Penjumlahan Pengurangan &
Bangun Ruang



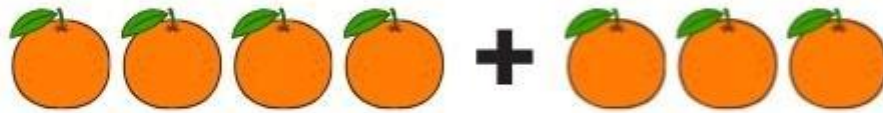
Nama: _____

Kelas: _____

A. Pilihan Ganda

Pilihlah jawaban yang paling tepat dengan memberi tanda silang (X) pada huruf a, b, c, atau d!

1. Hasil dari $4 + 3 = \dots$



a. 5

b. 6

c. 7

d. 8

2. Hasil dari $5 - 2 = \dots$



a. 3

b. 6

c. 2

d. 4

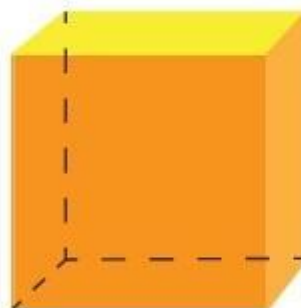
3. Bangun ruang di samping memiliki 6 sisi, namanya adalah

a. balok

b. kerucut

c. bola

d. kubus



B. ISIAN SINGKAT

Isilah titik-titik di bawah ini dengan jawaban yang tepat!

1. Bangun ruang yang tidak memiliki titik sudut yaitu ...

2. Hasil dari $6 + 5 =$

3. Hasil dari $10 - 7 =$

C. MENJODOHKAN

Pasangkan pernyataan di sebelah kiri dengan jawaban yang sesuai di sebelah kanan dengan menarik garis!



Kerucut



Kubus



Balok



Bola



Tabung

D. MENGELOMPOKKAN BERDASARKAN KATEGORI

Kelompokkan bilangan-bilangan berikut ke dalam kategori Bilangan Genap atau Bilangan Ganjil!

8

7

2

5

10

4

bilangan genap

bilangan ganjil