

LEMBAR KERJA PESERTA DIDIK



Makhluk Hidup dan Lingkungannya

 Ilmu Pengetahuan Alam

 Sains Dasar



Nama



Kelas / Sekolah



NIM / No. Absen



Tanggal





A Pilihan Ganda

Lingkari huruf A, B, C, atau D yang paling benar!

1 Yang termasuk ciri-ciri makhluk hidup adalah ...

A. Batu dapat bergerak sendiri

B. Air dapat tumbuh menjadi besar

C. Kucing dapat bernapas dan berkembang biak

D. Kursi dapat makan sendiri

2 Hewan berikut yang tinggal di dalam air adalah ...

A. Kambing

B. Ikan Lele

C. Ayam

D. Kucing


3 Tumbuhan membuat makanannya sendiri melalui proses yang disebut ...

A. Bernapas

B. Berjalan

C. Fotosintesis

D. Tidur



B Esai


Jawablah pertanyaan berikut dengan jelas dan lengkap!

1 Sebutkan 3 ciri-ciri makhluk hidup dan berikan masing-masing satu contohnya!

2 Apa perbedaan antara hewan dan tumbuhan? Jelaskan minimal 2 perbedaan!

3 Mengapa tumbuhan sangat penting bagi kehidupan manusia dan hewan? Jelaskan!

Mahluk Hidup dan Lingkungannya



C


Menjodohkan

Tulis huruf yang sesuai pada kotak Jawab!

Pasangkan makhluk hidup di kolom kiri dengan keterangan yang tepat di kolom kanan!

Mahluk Hidup	Jwb	Keterangan
1. Kupu-kupu	<input type="text"/>	A. Tinggal di dalam air
2. Pohon Mangga	<input type="text"/>	B. Memiliki sayap dan bisa terbang tinggi
3. Ikan Lele	<input type="text"/>	C. Memiliki bunga berwarna merah dan berduri
4. Burung Elang	<input type="text"/>	D. Mengalami perubahan bentuk dari ulat
5. Bunga Mawar	<input type="text"/>	E. Menghasilkan buah yang manis

Mahluk Hidup dan Lingkungannya



D Mengelompokkan

Kelompokkan makhluk hidup berikut ke dalam kategori yang tepat!

Perhatikan gambar di bawah ini! Tuliskan nama makhluk hidup ke dalam kolom yang sesuai!

Daftar Makhluk Hidup:

- Harimau
- Kelapa
- Ikan Lele
- Mawar
- Singa
- Ikan Kakap
- Kamboja
- Kuda
- Bambu

- Hewan Darat
- Hewan Air
- Tumbuhan

--	--	--