

## Lembar Kerja Siswa

# Ilmu Pengetahuan Alam

Pilih jawaban yang paling tepat!

1. Bagian tumbuhan yang berfungsi menyerap air dan zat hara dari tanah adalah...
  - A. Batang
  - B. Akar
  - C. Daun
  - D. Bunga
2. Tumbuhan membuat makanannya sendiri melalui proses yang disebut...
  - A. Penguapan
  - B. Penyerapan
  - C. Fotosintesis
  - D. Morfologi
3. Lingkungan yang bersih dapat membuat tubuh kita menjadi...
  - A. Sehat
  - B. Lemah
  - C. Tidak nyaman
  - D. Mudah sakit
4. Contoh hewan pemakan tumbuhan (herbivora) adalah...
  - A. Kucing
  - B. Kambing
  - C. Singa
  - D. Harimau
5. Berikut ini yang termasuk makhluk hidup adalah...
  - A. Pohon jambu
  - B. Batu
  - C. Air
  - D. Buku



Isilah dengan jawaban yang tepat!

1. Apa nama planet yang ditempati manusia.....
2. Apa sumber energi utama di bumi.....
3. Hewan pemakan segalanya (daging dan tumbuhan) disebut.....
4. Hewan pemakan tumbuhan disebut.....
5. Harimau termasuk hewan apa.....



# Lembar Kerja Siswa

## DIRI SENDIRI

Tarik garis untuk mencocokkan panca indra sesuai kegunaannya.



Mata



Hidung



Telinga



Lidah

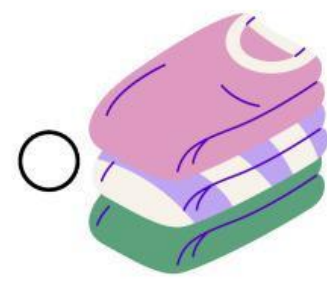
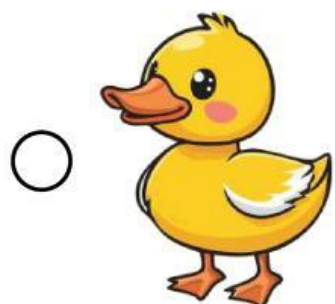
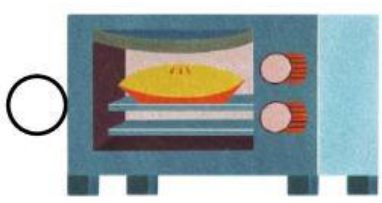




Tangan



# Makhluk Hidup

Ayo, beri tanda centang (✓) pada gambar makhluk hidup yang bisa tumbuh dan bernapas dengan benar!



Tetap semangat dan jangan menyerah!!