

**EVALUACIÓN DE TECNOLOGÍA
CORRESPONDIENTE AL TERCER TRIMESTRE
AÑO LECTIVO 2025-2026**

Nombre:	CALIFICACIÓN
Grado: ELEMENTAL 4	
Fecha:	Firma del representante:
Docente: Efrain Chasig	

“La tecnología es mejor cuando acerca a las personas.” — Matt Mullenweg

INSTRUCCIONES:

1. El tiempo para realizar la evaluación es de 45 minutos.
2. Conteste las preguntas planteadas en el cuestionario siguiendo las instrucciones dadas.
3. Realice su evaluación de forma individual.
4. Evite tachones y borrones.

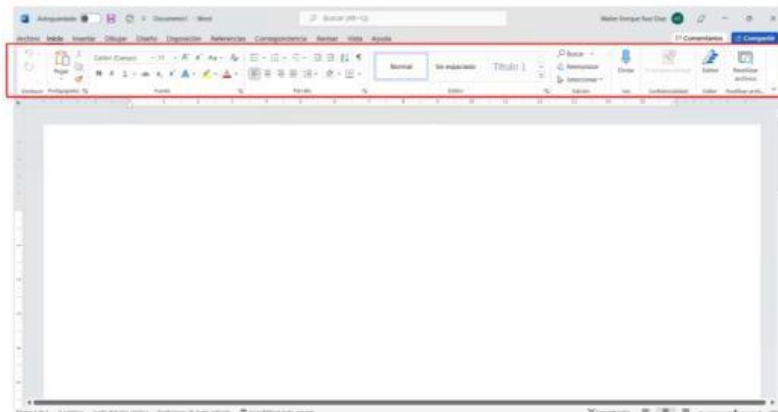
DESARROLLO ITEMS:

1. Seleccione la respuesta correcta. (4 puntos)

Encierre la opción correcta. Cada pregunta vale 1 punto.

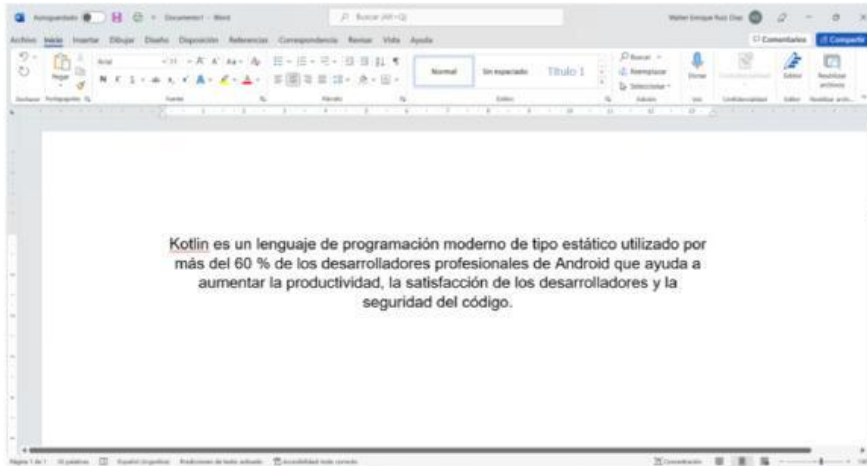
1. ¿Cuál es el nombre del área señalada en la imagen de Microsoft Word? (1 punto)

- a) Cinta de opciones
- b) Cinta de opiniones
- c) Cinta de colores
- d) Cinta de numeraciones



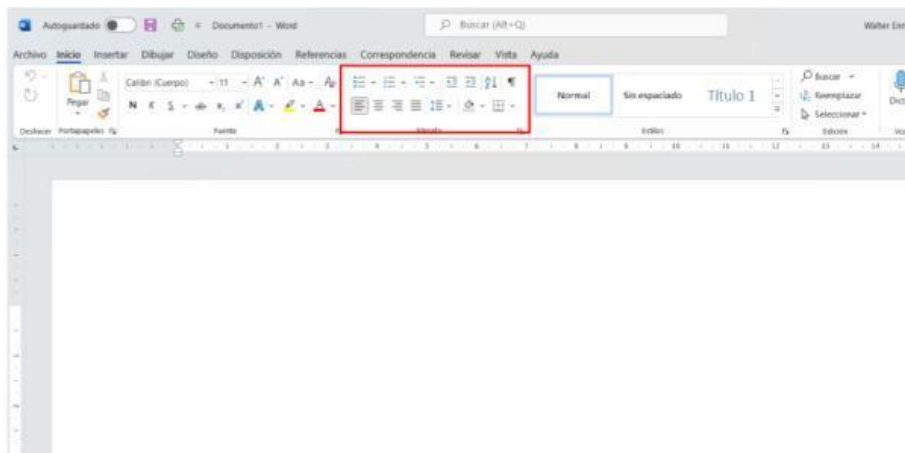
2. Observe la imagen. ¿Qué alineación tiene el texto? (1 punto)

- a) Alineación centrada media
- b) Alineación centrada
- c) Alineación izquierda
- d) Alineación derecha



3. El grupo de herramientas señalado se utiliza para modificar: (1 punto)

- a) Párrafos
- b) Textos
- c) Letras
- d) Números



4. ¿Qué es el hardware de una computadora? (1 punto)

- a) Las aplicaciones y programas de la computadora.
- b) Las partes físicas de la computadora que podemos tocar.
- c) Los documentos guardados en la computadora.
- d) Los navegadores de internet.

2. Escriba V si es verdadero o F si es falso. (3 puntos)

Cada respuesta correcta vale 0,5 puntos.

- () El teclado es un dispositivo de entrada.
- () El mouse sirve para ingresar información a la computadora.
- () El monitor es un dispositivo de entrada.
- () El software está formado por programas y aplicaciones.
- () La impresora es un dispositivo de salida.
- () El hardware son las partes físicas de la computadora.

3. Complete los espacios con la palabra correcta. (3 puntos)

Cada respuesta correcta vale 0,5 puntos.

Banco de palabras:

Hardware – Software – Teclado – Navegador – Monitor – Word

1. El _____ permite escribir letras y números en la computadora.
2. El _____ muestra imágenes e información de la computadora.
3. _____ es un programa para crear documentos de texto.
4. Un _____ permite ingresar a páginas de internet.
5. El _____ está formado por las partes físicas de una computadora.
6. El _____ está formado por programas y aplicaciones.

ELABORADO DOCENTE	REVISADO POR DIRECTOR DE AREA	APROBADO DIRECTORA
Lcd. Efrain Chasig 	Lcd. Efrain Chasig 	Lcda. Glenda Zambrano 