



# LKPD

## Matematika

membandingkan panjang, berat dan durasi waktu

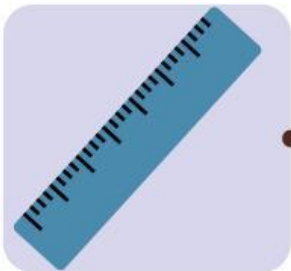
Nama: \_\_\_\_\_

Kelas: \_\_\_\_\_



# Alat Ukur

Hubungkan gambar di bawah ini dengan fungsinya yang sesuai.




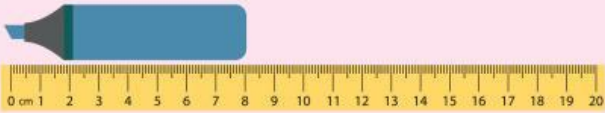





Alat Ukur Panjang

Alat Ukur Berat

# Mengukur Panjang



Tuliskan panjang benda pada tabel di bawah ini.

| No. | Pengukuran Panjang Benda  | Panjang benda dengan satuannya. |
|-----|---|---------------------------------|
| 1.  |    |                                 |
| 2.  |    |                                 |
| 3.  |  |                                 |
| 4.  |  |                                 |
| 5.  |  |                                 |
| 6.  |  |                                 |
| 7.  |  |                                 |



# Menghitung Berat

Hitunglah penjumlahan berat buah di bawah ini.

 $+$  $=$

 $+$  $=$

 $+$  $=$

 $+$  $=$

# Menentukan Waktu

Amati gambar dan buat jarum jam dengan tepat



Ayah berangkat kerja pada jam enam lewat tiga puluh menit pagi.



06.30



Dodi dan Rudi bermain pada jam tiga lewat empat puluh lima menit sore.



Upacara bendera di sekolah dimulai pada jam tujuh lewat tiga puluh menit pagi.



Sinta mencuci baju pada jam lima kurang lima belas menit sore.



Ibu berangkat berjualan ke pasar pada jam enam kurang lima belas menit.



Edo makan siang pada jam dua belas lewat tiga puluh menit siang.

