


NAMA :

KELAS :

Pola Gambar

Tentukan banyak benda berikutnya yang sesuai dengan pola gambar yang diberikan dengan tepat dan benar!



NAMA :

KELAS :

Pola Bilangan

Amatilah pola gambar di bawah ini kemudian jawab pertanyaan dengan tepat!


1



Berapa selisih banyak ayam antar kumpulan? _____

Berapa banyak ayam pada kumpulan ke-10? _____

2



Berapa selisih banyak katak antar kumpulan? _____

Berapa banyak katak pada kumpulan ke-7? _____

3



Berapa selisih banyak jerapah antar kumpulan? _____

Berapa banyak jerapah pada kumpulan ke-8? _____

nama

kelas



Temukan Pola Bilangan yang Salah

Perhatikan pola bilangannya, tentukan mana yang salah dan tuliskan jawaban benar nya!

1

2 4 6 9 =

2

20 15 10 1 =

3

10 20 30 35 =

4

1 3 5 6 =

5

3 6 8 12 =




Nama :

Kelas :

Pola Bentuk dan Warna

Pasangkan dua gambar yang sama bentuk dan warnanya!



Belajar Pola Bilangan

NAMA:

KELAS:

Lihatlah seekor katak yang sedang melompat di atas garis bilangan. Katak ini melompat dengan pola tertentu. Ayo bantu katak melengkapi angkanya!

CONTOH:



$+1$ $+1$ $+1$

7 8 9 10



$+2$ $+2$ $+2$ $+2$ $+2$

1 [] [] [] [] []



$+3$ $+3$ $+3$ $+3$ $+3$

2 [] [] [] [] []



$+2$ $+3$ $+4$ $+5$ $+6$

3 [] [] [] [] []



$+2$ $+3$ $+4$ $+5$ $+6$

4 [] [] [] [] []

NAMA :

KELAS :

SOAL INTERAKTIF - POLA GAMBAR & POLA BILANGAN

Berilah tanda centang pada jawaban yang benar

1

Pola bilangan: 100, 90, 80, 70, ,

60, 50

65, 55

75, 65

2

Perhatikan pola gambar:



Bentuk selanjutnya adalah



3

Pola bilangan: 2, 4, 8, 16, ,

24, 32

20, 40

32, 64

4

Pola bilangan: 10, 20, 40, 80, ,

90, 100

160, 320

100, 200

NAMA :

KELAS :

SOAL INTERAKTIF - POLA GAMBAR & POLA BILANGAN

Berilah tanda centang pada jawaban yang benar

1 Pola bilangan: 2, 4, 6, 8, ,

9,10

12,14

10,12

2 Pola bilangan: 5, 10, 15, 20, ,

25,30

22,27

24,28

3 Perhatikan pola gambar :









Bunga selanjutnya adalah

4 Perhatikan pola:









Warna berikutnya adalah

5 Pola bilangan ganjil: 1, 3, 5, 7, ,

9,11

10,12

8,10

Nama :

Kelas :

Menentukan Pola Bilangan

Tentukan bilangan berikutnya dan kotak kosong dari pola bilangan yang diberikan dengan benar dan tepat!

3

7

11

30

31

27

23

1

7

25

31

49

50

45

35

25

15

7

10

13

25

28

31

9

13

17

21

77

70

63

2

4

16

18