



OPERASI PENJUMLAHAN DAN PENGURANGAN

Kelas 1 SD

Nama : Nur Alfiah
NIM : 208240020
Dosen Pengampu : Ibu Della Amrina Yusra, S.Pd., M.Pd
MK : Media Pembelajaran Matematika

1. PILIHAN GANDA

Pilih jawaban yang benar!

1. Berapa jumlah apel di bawah ini?



A. 3

B. 4

=

=

C. 5

D. 6

2. Berapa jumlah stroberi di bawah ini?



A. 3

B. 4

=

=

C. 5

D. 6

3. Berapa jumlah wortel di bawah ini?



A. 4

B. 5

=



=

C. 6

D. 7

2. ISIAN SINGKAT

Isilah titik-titik di bawah ini dengan jawaban yang benar! ★

1.  -  = ikan
5 ikan dikurang 2 ikan =

2.  -  = bintang laut
7 bintang laut ditambah 3 bintang laut =

3.  -  = kura-kura
6 kura-kura dikurang 4 kura-kura =

4.  +  = kerang
3 kerang ditambah 2 kerang =

3. PUZZLE ANGKA

Isilah kotak kosong dengan angka yang tepat!

1.

$$2 + \square = 10$$

$$10 - \square = 5$$

2.

$$7 - \square = 3$$

$$\square + 3 = 9$$

4. MENJODOHKAN

Tarik garis untuk menjodohkan dengan jawaban yang tepat!

1. $5 + 5$ ●

● 20

2. $8 - 3$ ●

● 10

3. $7 + 6$ ●

● 11

4. $15 - 5$ ●

● 2

5. $9 + 2$ ●



● 9



5. CEKLIS (BENAR / SALAH)



Beri tanda centang (✓) jika benar dan tanda silang (✗) jika salah!



BENAR ✓

SALAH ✗

1.  +  = 5 apel + 2 apel
= 7 apel

2.  +  = 4 stroberi + 3 stroberi
= 6 stroberi

3.  +  = 6 ikan + 2 ikan
= 9 ikan


4.  +  = 7 wortel + 1 wortel
= 8 wortel

5.  +  = 8 anggur + 2 anggur
= 10 anggur

6. PILIHAN GANDA

Pilih jawaban yang benar dengan memberikan centang (✓)!

6. Siti memiliki 6 wortel.
Ia memberikan 2 wortel
kepada temannya.
Berapa sisa wortel Siti?



$$6 - 2 = ?$$

Berilah centang (✓) pada jawaban yang benar!

2
wortel

3
wortel

4
wortel

5
wortel

6

7. SOAL CERITA

Bacalah cerita berikut dan selesaikan!

1. Budi mempunyai 8 kelereng. Kemudian ia diberi 4 kelereng lagi oleh ayah. Berapa banyak kelereng Budi sekarang?

$$8 + 4 = \square$$



2. Siti mempunyai 12 permen. Ia memberikan 5 permen kepada adiknya. Berapa sisa permen Siti?

$$12 - 5 = \square$$



8. SOAL CERITA

Bacalah cerita berikut dengan teliti dan jawablah pertanyaan di bawahnya!

1. Budi mempunyai 8 kelereng. Kemudian ia diberi 4 kelereng lagi oleh ayah. Berapa banyak kelereng Budi sekarang?



Berilah centang (✓) pada jawaban yang benar!

- 10 kelereng 12 kelereng
 11 kelereng 13 kelereng



2. Siti mempunyai 12 permen. Ia memberikan 5 permen kepada adiknya. Berapa sisa permen Siti?



Berilah centang (✓) pada jawaban yang benar!

- 5 permen 7 permen
 6 permen 8 permen

