



# BANGUN RUANG



Nama : \_\_\_\_\_

Kelas : \_\_\_\_\_



Berilah tanda centang (✓) pada jawaban yang benar!

1 Manakah benda yang berbentuk kubus?



2 Manakah benda yang berbentuk balok?



3 Manakah benda yang berbentuk tabung?



4 Manakah benda yang berbentuk kerucut?



5 Manakah benda yang berbentuk bola?





# BANGUN RUANG

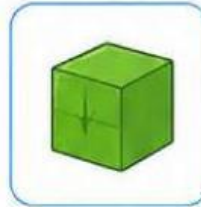


Nama : \_\_\_\_\_

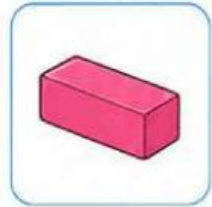
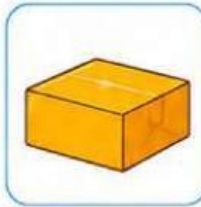
Kelas : \_\_\_\_\_



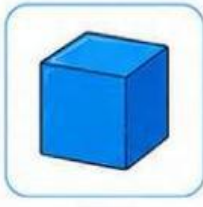

A. Beri tanda centang (✓) pada gambar yang berbentuk kubus!



B. Beri tanda centang (✓) pada gambar yang berbentuk balok!

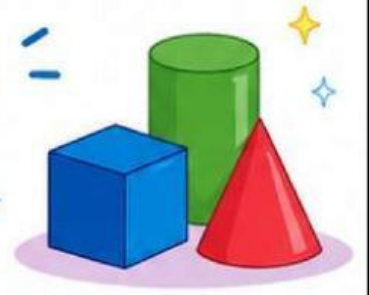


C. Beri tanda centang (✓) pada gambar yang berbentuk tabung!





# BANGUN RUANG

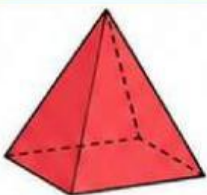
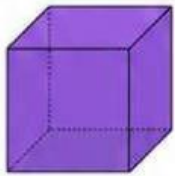


Nama : \_\_\_\_\_

Kelas : \_\_\_\_\_



Hubungkan gambar dengan nama yang sesuai!



TABUNG

BOLA

KUBUS

LIMAS

KERUCUT





# BANGUN RUANG

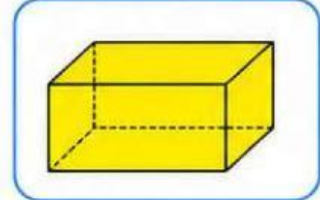
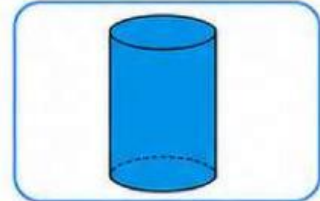
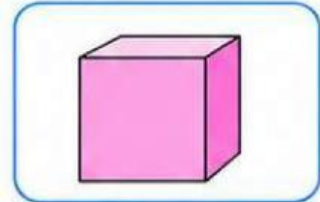

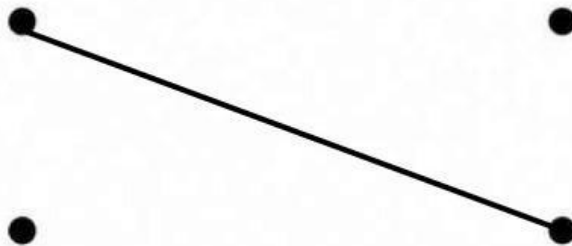


Nama : \_\_\_\_\_

Kelas : \_\_\_\_\_



Pasangkan gambar benda konkrit dengan gambar bangun ruang di bawah ini!





# BANGUN RUANG





Nama : \_\_\_\_\_

Kelas : \_\_\_\_\_



## Pasangkan Bangun Ruang dengan Ciri-cirinya!

Tarik garis untuk memasangkan dengan benar!




- Memiliki 2 sisi datar dan 1 sisi lengkung
- Memiliki rusuk lengkung tanpa rusuk



- Memiliki 6 sisi berbentuk persegi yang sama
- Memiliki 12 rusuk
- Memiliki 8 titik sudut



- Memiliki 1 sisi lengkung tanpa rusuk dan titik sudut



- Memiliki 1 sisi lengkung dan 1 sisi datar
- Memiliki 1 rusuk lengkung dan 1 titik puncak

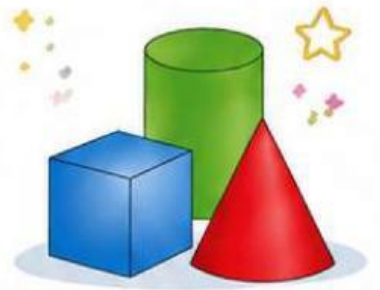


- Memiliki 6 sisi, 12 rusuk, dan 8 titik sudut
- Sisi yang berhadapan berbentuk persegi panjang





# BANGUN RUANG



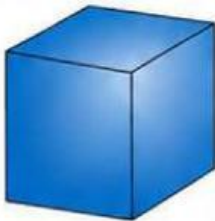
Nama : \_\_\_\_\_

Kelas : \_\_\_\_\_




Berapa banyak rusuk pada bangun ruang berikut?

1.



2.



24

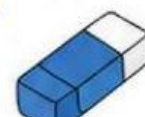
3.



4.

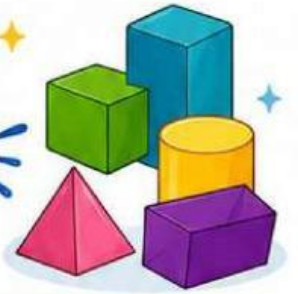


5.





# BANGUN RUANG ISI TITIK-TITIK



Nama : \_\_\_\_\_

Kelas : \_\_\_\_\_



**Petunjuk:** Isilah titik-titik pada kotak kosong dengan nama bangun ruang yang tepat sesuai dengan gambar yang diberikan!

1.



.....

2.



.....

3.



.....

4.



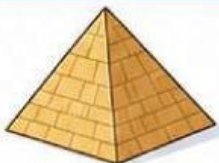
.....

5.



.....

6.



.....




Kerjakan dengan teliti  
dan semangat! ★





# BANGUN RUANG



Nama : \_\_\_\_\_

Kelas : \_\_\_\_\_



Hitunglah banyak rusuk pada setiap bangun ruang berikut!



1.

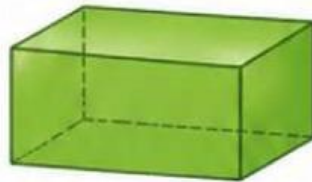
Kubus



Banyak rusuk = 12

2.

Balok



Banyak rusuk = \_\_\_\_\_

3.

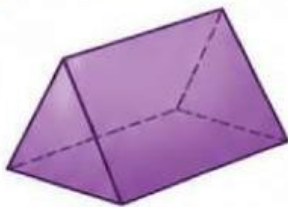
Tabung



Banyak rusuk = \_\_\_\_\_

4.

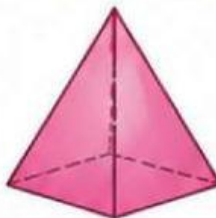
Prisma Segitiga



Banyak rusuk = \_\_\_\_\_

5.

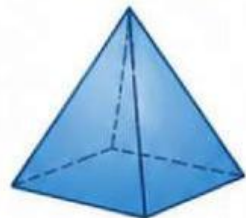
Limas Segitiga



Banyak rusuk = \_\_\_\_\_

6.

Limas Segiempat



Banyak rusuk = \_\_\_\_\_

7.

Prisma Segi Lima



Banyak rusuk = \_\_\_\_\_

8.

Kerucut



Banyak rusuk = \_\_\_\_\_

9.

Prisma Segi Enam

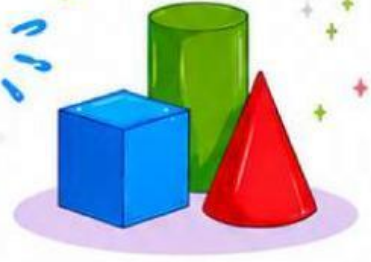


Banyak rusuk = \_\_\_\_\_






# BANGUN RUANG





Nama : \_\_\_\_\_  
Kelas : \_\_\_\_\_





Jawablah pertanyaan berikut dengan menuliskan jawaban singkat pada garis yang tersedia!


1  Benda di samping berbentuk apa?  
Jawab : Kubus


2  Benda di samping berbentuk apa?  
Jawab : \_\_\_\_\_


3  Benda di samping berbentuk apa?  
Jawab : \_\_\_\_\_

4  Benda di samping berbentuk apa?  
Jawab : \_\_\_\_\_

5  Benda di samping berbentuk apa?  
Jawab : \_\_\_\_\_

6  Benda di samping lebih mirip bangun ruang apa?  
Jawab : \_\_\_\_\_

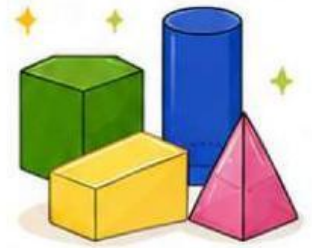
7  Benda di samping lebih mirip bangun ruang apa?  
Jawab : \_\_\_\_\_

8  Benda di samping lebih mirip bangun ruang apa?  
Jawab : \_\_\_\_\_





# TEKA-TEKI BANGUN RUANG



Nama : \_\_\_\_\_

Kelas : \_\_\_\_\_



## Petunjuk:

1. Temukan nama bangun ruang yang tersembunyi dalam kotak huruf.
2. Kata dapat ditulis mendatar (→), menurun (↓), atau diagonal (↘).
3. Lingkari atau beri tanda pada kata yang kamu temukan.



K	U	B	U	S	A	B	C	D	E
X	Y	Z	A	B	A	L	O	K	F
P	Q	R	S	T	U	V	W	X	Y
P	R	I	S	M	A	B	C	D	Z
A	B	C	D	E	F	G	H	I	J
T	A	B	U	N	G	K	L	M	N
O	P	Q	R	S	T	U	V	W	X
L	I	M	A	S	B	C	D	E	F
A	B	C	D	U	F	G	K	I	J
K	L	M	N	O	P	Q	R	S	T

## Daftar Kata yang Dicari



**KUBUS**

.....



**BALOK**

.....



**PRISMA**

.....



**TABUNG**

.....



**LIMAS**

.....



## Tahukah Kamu?

Bangun ruang adalah benda tiga dimensi yang memiliki panjang, lebar, dan tinggi.



Tuliskan di sini:

1. \_\_\_\_\_

2. \_\_\_\_\_

