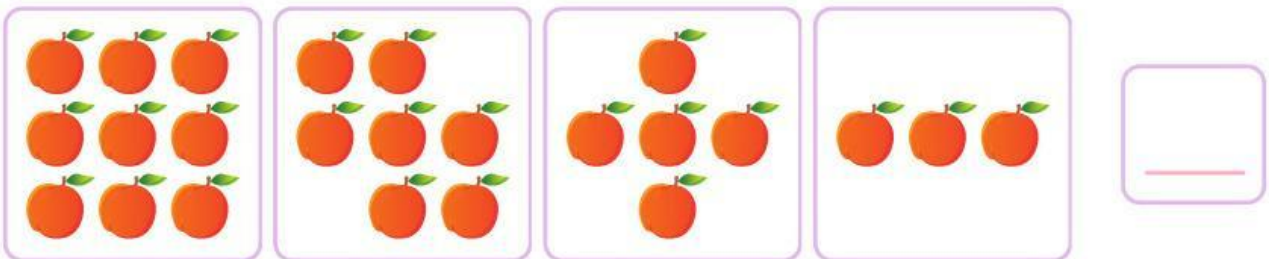


NAMA :

KELAS :

# Pola Gambar

Tentukan banyak benda berikutnya yang sesuai dengan pola gambar yang diberikan dengan tepat dan benar!



NAMA :

KELAS :

# Pola Bilangan

Amatilah pola gambar di bawah ini kemudian jawab pertanyaan dengan tepat!

1



Berapa selisih banyak ayam antar kumpulan? \_\_\_\_\_

Berapa banyak ayam pada kumpulan ke-10? \_\_\_\_\_

2



Berapa selisih banyak katak antar kumpulan? \_\_\_\_\_

Berapa banyak katak pada kumpulan ke-7? \_\_\_\_\_

3



Berapa selisih banyak jerapah antar kumpulan? \_\_\_\_\_

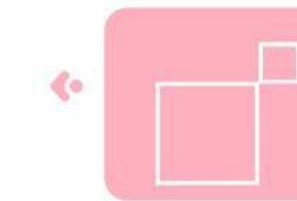
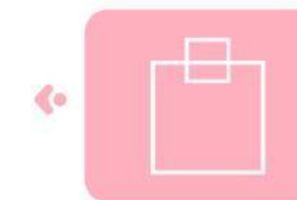

Berapa banyak jerapah pada kumpulan ke-8? \_\_\_\_\_

NAMA :

KELAS :

# Pola Gambar

Pasangkanlah bentuk bangun datar yang memiliki pola gambar yang sama dengan tepat!



nama

kelas



## Temukan Pola Bilangan yang Salah

Perhatikan pola bilangannya, tentukan mana yang salah dan tuliskan jawaban benar nya!

1

2      4      6      9      =     

2

20      15      10      1      =     

3

10      20      30      35      =     

4

1      3      5      6      =     

5

3      6      8      12      =     







Nama :

Kelas :

# Pola Bentuk dan Warna

Pasangkan dua gambar yang sama bentuk dan warnanya!



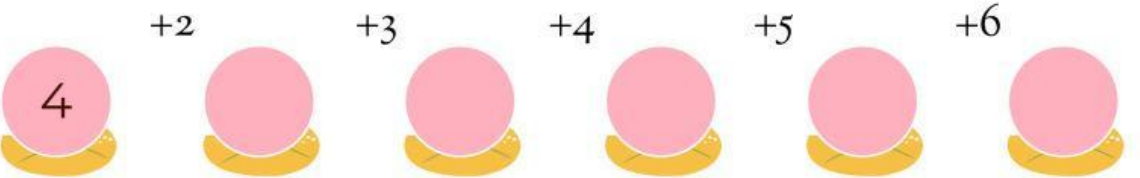
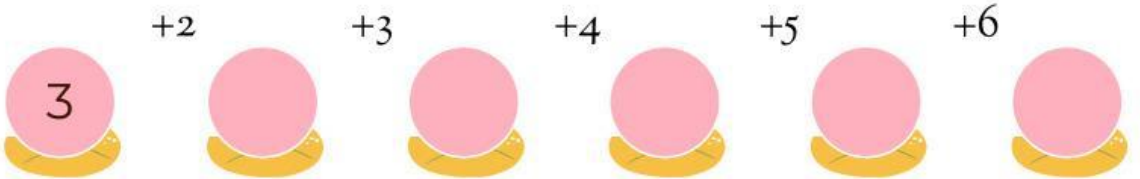
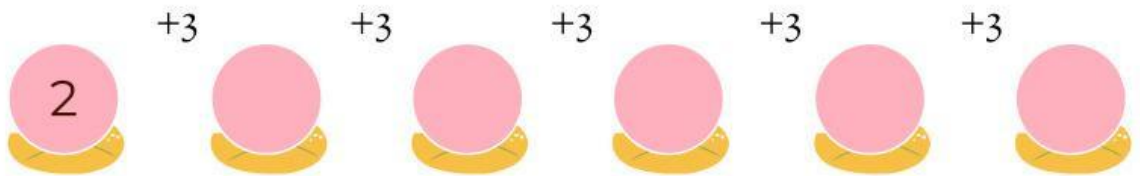
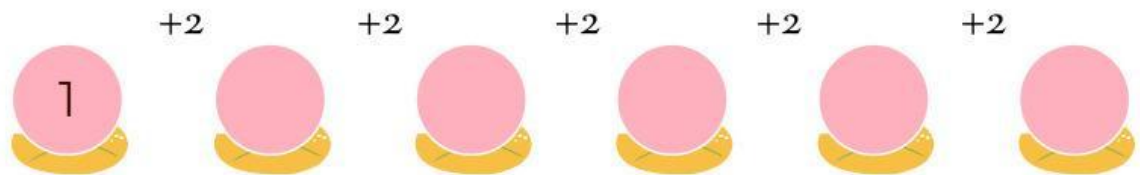
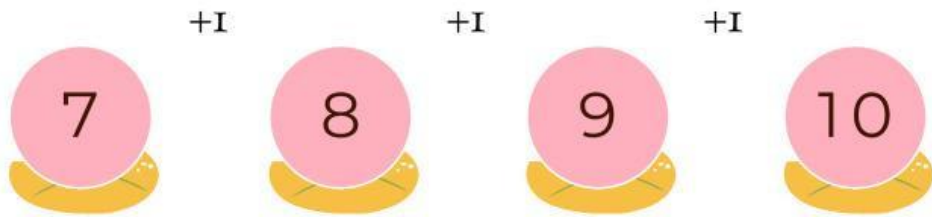
# Belajar Pola Bilangan

NAMA:

KELAS:

Lihatlah seekor katak yang sedang melompat di atas garis bilangan. Katak ini melompat dengan pola tertentu. Ayo bantu katak melengkapinya!

CONTOH:



NAMA :

KELAS :

## SOAL INTERAKTIF - POLA GAMBAR & POLA BILANGAN

Berilah tanda centang pada jawaban yang benar

1

Pola bilangan: 100, 90, 80, 70, ..... , .....

60, 50

65, 55

75, 65

2

Perhatikan pola gambar:



Bentuk selanjutnya adalah



3

Pola bilangan: 2, 4, 8, 16, ..... , .....

24, 32

20, 40

32, 64

4

Pola bilangan: 10, 20, 40, 80, ..... , .....

90, 100

160, 320

100, 200

NAMA :

KELAS :

## SOAL INTERAKTIF - POLA GAMBAR & POLA BILANGAN

Berilah tanda centang pada jawaban yang benar

- 1 Pola bilangan: 2, 4, 6, 8, ..... , .....
- 9,10  12,14
- 10,12

- 2 Pola bilangan: 5, 10, 15, 20, ..... , .....
- 25,30  22,27
- 24,28

- 3 Perhatikan pola gambar :
- 
-   
- 
- Bunga selanjutnya adalah

- 4 Perhatikan pola:
- 
-   
- 
- Warna berikutnya adalah

- 5 Pola bilangan ganjil: 1, 3, 5, 7, ..... , .....
- 9,11  10,12
- 8,10

Nama :

Kelas :

## Menentukan Pola Bilangan

Tentukan bilangan berikutnya dan kotak kosong dari pola bilangan yang diberikan dengan benar dan tepat!

3

7

11

30

31

27

23

1

7

25

31

49

50

45

35

25

15

7

10

13

25

28

31

9

13

17

21

77

70

63

2

4

16

18