

ĐỀ KHẢO SÁT TRẮC NGHIỆM 4

Question 1. Which city in Vietnam has the most rivers passing through?

- A. Hải Phòng
- B. Hồ Chí Minh
- C. Hà Nội
- D. Đà Nẵng

Question 2. Which sea is between Europe and Africa?

- A. The Red Sea
- B. The Mediterranean Sea
- C. The Baltic Sea
- D. The Caribbean Sea

Question 3. Which food chain is found in a water ecosystem?

A. the Sun → algae → fish → heron

B. the Sun → water lily → frog → dragonfly

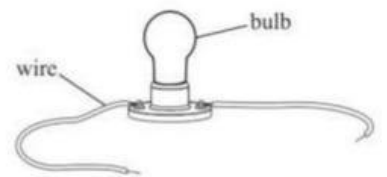
C. the Sun → frog → dragonfly → heron

D. the Sun → algae → water lily → fish

Question 4. Use the picture on the right to answer the question.

Which object is needed to light the bulb?

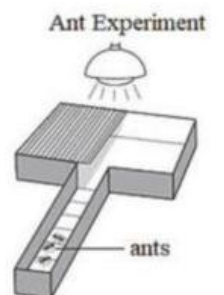
- A. a battery
- B. a switch
- C. another bulb
- D. some wire




Question 5. Use the picture on the right to answer the question.

Which question does this experiment answer?

- A. Where do ants get food?
- B. What is the mass of the ants?
- C. How many kinds of ants are there?
- D. Will ants go to a dark or light area?



Question 6. Use the picture below to answer the question.



Which bird foot is good for swimming?

- A. foot 1
- B. foot 2
- C. foot 3
- D. foot 4

Question 7. The food we eat gives the energy we need to work, play, and stay healthy. The energy in food is measured in **calories (cal)**.

Calorie Table

Food	Calories
An apple	81
A baked potato with sour cream	393
A slice of wheat bread	70
A scrambled egg	100
A pancake	61
A glass of orange juice	112
A glass of low-fat milk	90

Use the data in the Calorie Table to calculate the total of calories consumed in the following meal.

Breakfast – 2 scrambled eggs, 1 slice of wheat bread, 1 glass of orange juice, and 1 pancake.

How many calories does this meal give?

- A. 548 cal B. 343 cal C. 443 cal D. 648 cal

Question 8. Mr. Binh mixed iron filings with sand. Then, he asked his students to separate the iron filings from the sand. Which of the following is a good tool to separate the iron filings from the sand?

- A. magnifying glass B. test tube C. magnet bar D. eyedropper

QUESTIONS 9-10

Read the passage below and choose the best answer.

In 1261, Kublai Khan – the founder of the Yuan Dynasty in China and the fifth Khagan of the Mongol Empire – ridiculously ordered King Trần Thánh Tông to impose heavy taxes on Đại Việt’s people, along with a list of demands for labour, gold, silver, pearls, rhinoceros’ horns, silk, ... In 1284, Kublai Khan wanted to invade Đại Việt with the pretext that he would attack Champa by moving his troops through Đại Việt’s territory. However, King of Đại Việt refused to let the Mongolian troops enter his territory. This led to another two national defence wars against the Mongol Empire.

Question 9. Which was NOT the reason why Kublai Khan made such nonsense demands in 1261 and 1284?

- A. He wanted Đại Việt to become his own territory.
 B. He wanted to make Đại Việt rich and intended to trade with the Đại Việt’s people.
 C. He forced Đại Việt to behave inappropriately so that he could invade Đại Việt.
 D. He took advantage of Đại Việt’s material and labour.

Question 10. Which reason did Kublai Khan give in order to invade Đại Việt?

- A. King Trần Thánh Tông refused to raise taxes on Đại Việt’s people.
 B. Kublai Khan decided to start war against Đại Việt.
 C. Kublai Khan wanted to reach and conquer Champa.
 D. Kublai Khan wanted to be king of the whole world.

Question 11. A cuboid with length 6 cm, width 5 cm and height 4 cm is painted on all six faces. This cuboid is cut into identical cubes with length 1 cm. Find the number of cubes that are painted on any face.

- A. 112 B. 96 C. 84 D. 68

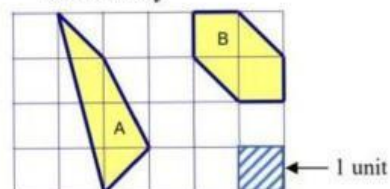
Question 12. A certain month has exactly three Sundays that fall on even dates. Which day is the 15th of that month?

- A. Wednesday B. Thursday C. Friday D. Saturday

Question 13. Use the picture on the right to answer the question.

Which of the following statements is correct?

- A. area (A) > area (B)
 B. area (A) < area (B)
 C. area (A) = area (B)
 D. area (A) + area (B) = 7 (units)



Question 14. Divide 80 apples among 12 children so that each child gets at least 1 apple and no 2 children get the same number of apples. How many apples at most can a child get?

- A. 10 B. 14 C. 15 D. 18

Question 15. What does the sign on the right say?

- A. You pay only 30% of the price of all items.
 B. Prices have gone up 30% during the sale.
 C. 30% of everything in this shop is on sale now.
 D. All items bought in the sale cost 30% less than usual.



Question 16. Choose the best choice A, B, C, or D to fill in the blank.

Lucie _____ fishing with her father yesterday afternoon.

- A. is going B. went C. goes D. gone

Question 17. Choose the word that does not belong with the other ones:

- A. flight B. journey C. program D. trip

Question 18. Trong các câu tục ngữ sau, câu nào KHÔNG thể hiện nội dung “nhân ái”?

- A. Thương người như thể thương thân.
 B. Ăn quả nhớ kẻ trồng cây.
 C. Anh em như thể chân tay/ Rách lành đùm bọc, dở hay đỡ đần.
 D. Lá lành đùm lá rách.

Question 19. Chọn một từ thích hợp trong các từ sau để kết nối hai câu văn trong đoạn trích.

Một môi trong công việc ngày mùa, hay vì đùa chơi, bạn sẽ sung sướng biết bao khi tựa mình vào cây rom. _____ chắc chắn bạn sẽ ngủ thiếp đi ngay, vì sự êm đềm của rom, vì hương đồng cỏ nội đã sẵn đợi vỗ về giấc ngủ của bạn. (Trích Cây rom, Phạm Đức)

- A. Và B. Hoặc C. Nếu D. Tuy

Question 20. Chọn từ trái nghĩa với từ “khéo” để điền vào chỗ trống trong câu tục ngữ “Áo rách khéo vá, hơn lành _____ may”

- A. chăm B. siêng C. vụng D. dở

--- HẾT ---

1. The Red Sea: Biển Đỏ (là vịnh nhỏ của Ấn Độ Dương nằm giữa Châu Phi và Châu Á)
2. The Baltic Sea: Biển Ban-tích (là biển rìa lục địa được bao bọc bởi bán đảo Scandinavia, thuộc khu vực Trung Âu, Đông Âu, và quần đảo Đan Mạch)
3. The Mediterranean Sea: Biển Địa Trung Hải (là một phần của Đại Tây Dương, nằm phía Nam của Châu Âu, phía Bắc của Châu Phi, và phía Tây châu Châu Á)
4. The Caribbean Sea: Biển Ca-ri-bê (là một vùng biển nhiệt đới ở Tây Bán Cầu thuộc Đại Tây Dương, được bao bọc bởi một chuỗi hải đảo cùng hai lục địa Bắc và Nam Mỹ).
5. food chain (n): chuỗi thức ăn 21. consume (v): tiêu thụ
6. ecosystem (n): hệ sinh thái 22. iron fillings (n): trấu sắt
7. algae (n): tảo 23. separate (v): tách riêng
8. heron (n): con diệc 24. tool (n): dụng cụ
9. water lily (n): hoa súng 25. magnifying glass (n): kính lúp
10. dragonfly (n): chuồn chuồn 26. test tube (n): ống nghiệm
11. object (n): đồ vật 27. magnet bar (n): nam châm
12. light (v): thấp sáng 28. eyedropper (n): ống nhỏ giọt
13. switch (n): công tắc 29. founder (n): nhà sáng lập
14. wire (n): dây điện 30. Yuan Dynasty: triều đại nhà Nguyên (Trung Quốc)
15. experiement (n): thí nghiệm 31. Mongol Empire: đế quốc Mông Cổ
16. mass (n): khối lượng 32. ridiculously (adv): lố lăng
17. measure (v): đo lường 33. order (v): ra lệnh
18. data (n): số liệu 34. impose heavy taxes (v): đánh/áp đặt thuế nặng/cao
19. calculate (v): tính toán
20. total (n): số tổng