

LKPD

Ilmu Pengetahuan Alam & sosial

Tema: Siklus Makhluk Hidup

Nama: _____

Kelas: _____





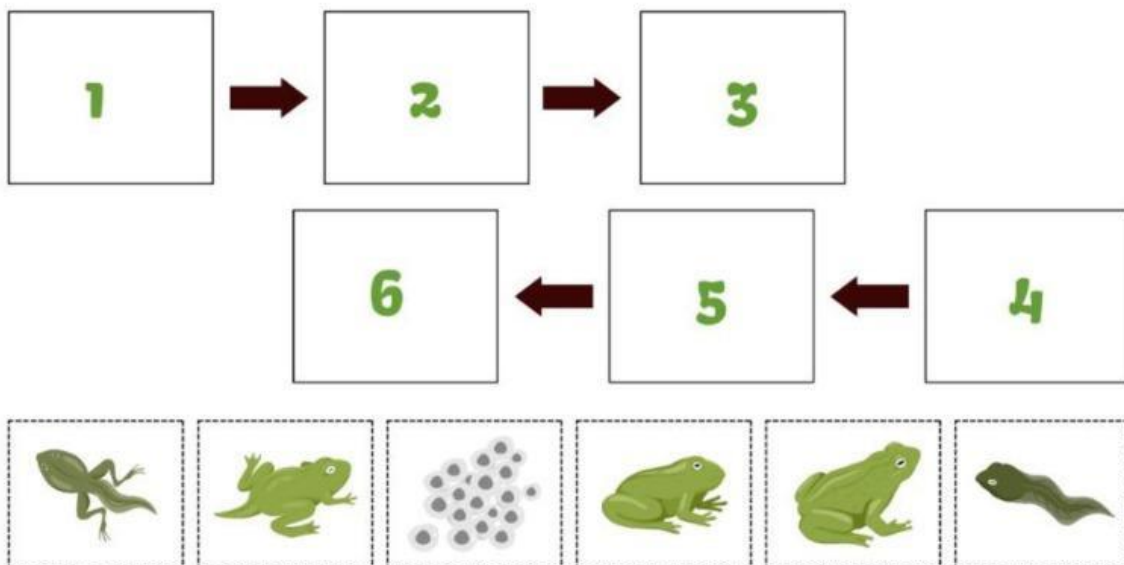
Siklus Hidup Kupu-Kupu dan katak

Tugas:

Hubungkan garis nama tahapan yang sesuai dan tempel gambar sesuai dengan urutannya!

Siklus Kehidupan Katak

Tarik gambar dibawah, lalu tempelkan sesuai dengan jawaban yang benar!



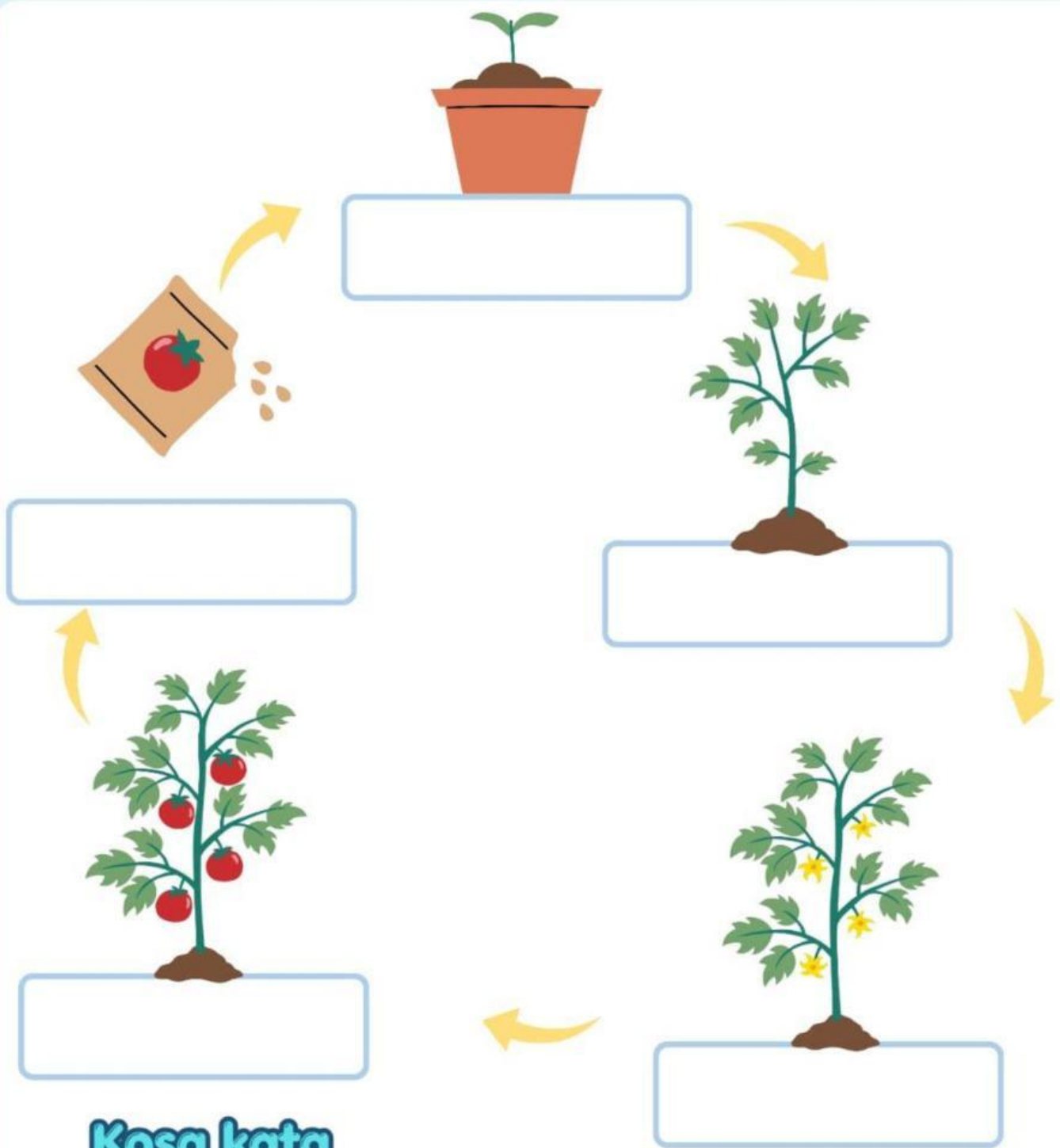
Tarik garis untuk menghubungkan nama tahapan dengan gambar yang sesuai.

- Ulat
- Kepompong
- Kupu-kupu
- Telur

-
-
-
-

Siklus Hidup pada Tumbuhan

Perhatikan gambar, urutkan siklus hidup pada tumbuhan dengan menarik kosa kata di bawah ini



**Kosa kata
siklus
tumbuhan**

Biji

**Tumbuhan
Berbunga**

**Tumbuhan
Muda**

**Tunas/
Kecambah**

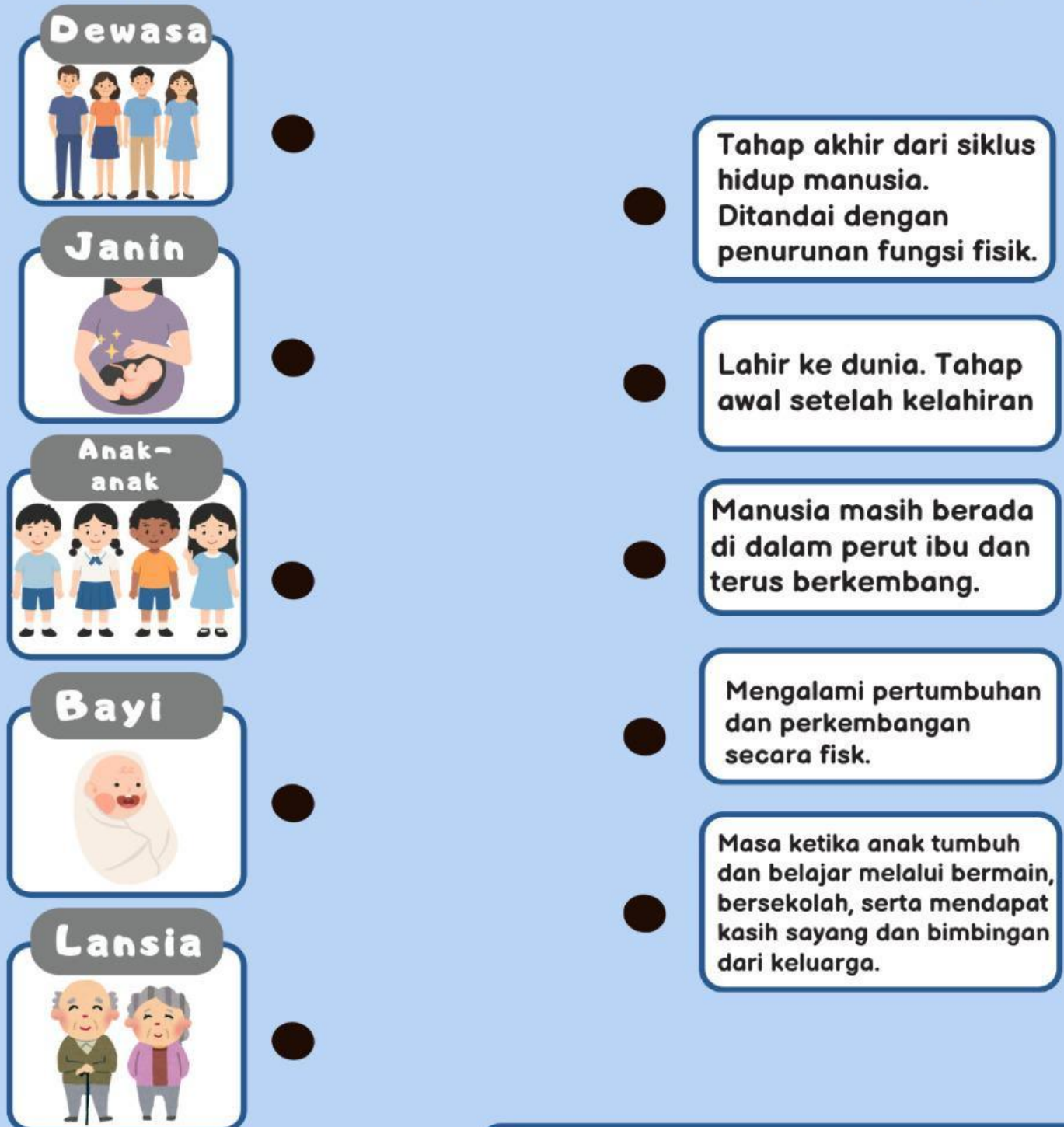
**Tumbuhan
Berbuah**

Ayo Kerjakan!

- Perhatikan gambar di bawah ini.
- Tarik garis untuk menghubungkan nama tahapan yang sesuai gambar.



Siklus Hidup Manusia



Sekarang kamu berada di tahap mana??



Siklus Hidup Ayam

Berbeda dengan kupu-kupu, ayam tidak mengalami perubahan bentuk yang drastis. Ayo kita lihat perjalanannya.

Tugas:

Lengkapilah diagram siklus hidup ayam di bawah ini dengan kata-kata dari dalam kotak.

Kotak Bantuan

Telur	Menetas	
Anak Ayam	Bertelur	Ayam Dewasa

