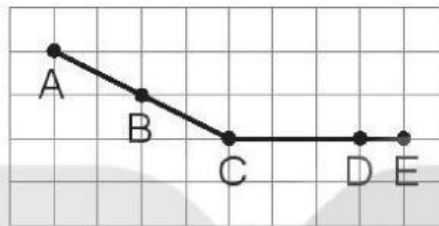


BÀI 16

ĐIỂM Ở GIỮA, TRUNG ĐIỂM CỦA ĐOẠN THẲNG

Tiết 1

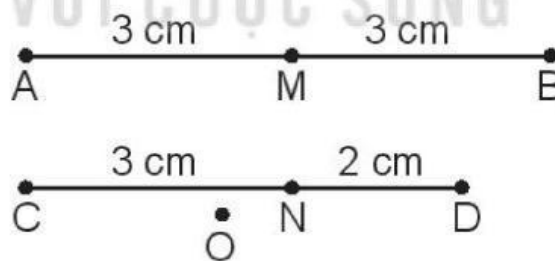
1 Đ, S ?



Trong hình trên:

- a) B là trung điểm của đoạn thẳng AC.
- b) D là trung điểm của đoạn thẳng CE.
- c) C là điểm ở giữa hai điểm B và D.
- d) D là điểm ở giữa hai điểm C và E.

2 Quan sát hình vẽ rồi viết tiếp vào chỗ chấm cho thích hợp.

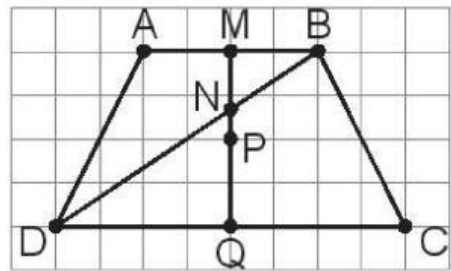


- a) Các nhóm ba điểm thẳng hàng là:
- b) M là điểm ở giữa hai điểm và
- b) M là trung điểm của đoạn thẳng
- c) là điểm ở giữa hai điểm C và D.

3 ✎ Viết tiếp vào chỗ chấm cho thích hợp.

a) Trung điểm của đoạn thẳng CD là điểm

b) Trung điểm của đoạn thẳng MQ là điểm



4 ✎ Viết tiếp vào chỗ chấm cho thích hợp.

Cho biết vị trí nhà và khoảng cách giữa các nhà của các bạn Nghêu, Sò, Ốc, Hến như hình vẽ.



a) Nhà các bạn và ở giữa nhà Nghêu và nhà Hến.

b) Nhà bạn ở chính giữa quãng đường từ nhà Nghêu đến nhà Hến.

Tiết 2

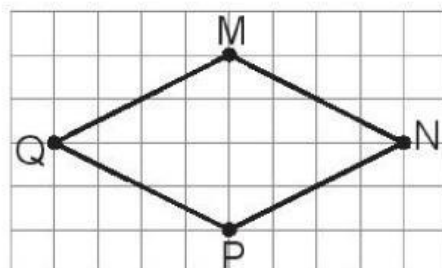
1 ✎ Xác định trung điểm của đoạn thẳng AB và đoạn thẳng AC.



2 ✎ Trong hình vẽ bên, hãy:

a) Vẽ đoạn thẳng MP và vẽ trung điểm A của đoạn thẳng MP.

b) Vẽ đoạn thẳng AN và vẽ trung điểm B của đoạn thẳng AN.



3 **Số ?**



Một cây cầu đá có 11 tầng đá. Chú chuột túi đang ở tầng đá ghi số 1 (như hình vẽ). Mỗi lần nhảy, chuột túi sẽ nhảy từ một tầng đá sang tầng đá ghi số liền sau nó. Vậy:

Chuột túi cần nhảy thêm lần để đến được tầng đá chính giữa của cây cầu.

- 4 Nam có một đoạn dây dài 20 cm. Bạn ấy muốn cắt một đoạn dây dài 5 cm từ đoạn dây ban đầu mà không cần dùng thước có vạch chia xăng-ti-mét. Em hãy giúp Nam tìm một cách làm.

Cách làm

KẾT NỐI TRI THỨC
VỚI CUỘC SỐNG