

Nombre:

Fecha:

1. Escribe como se lee o con números:

- 258: _____
- 6309: _____
- Doscientos veintidós: _____
- Seis mil cincuenta: _____

2. Compara cada pareja de números y escribe el signo correspondiente $>$ \leq o $=$

245 ___ 380

7805 ___ 6431

327 ___ 327

828 ___ 810

9842 ___ 9850

1040 ___ 1004

3. Descompón cada número.

345 = _____

7508 = _____

4. Aproxima cada número a:

Decenas:

37 →

41 →

Centenas:

458 →

802 →

Unidades de millar:

6340 →

8555 →

5. Calcula:

$2345 + 6742$

$5293 - 475$

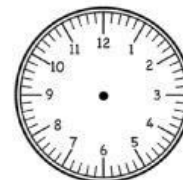
564×8

$3287 : 6$

6. ¿Qué hora es?







9:30



1:15

7. Responde:

El doble de 8 es ____ El triple de 3 es ____ La mitad de 10 es ____ Un cuarto de 40 es ____

8. Convierte:

5m = _____ cm

3€ = _____ cts.

1h = _____ min

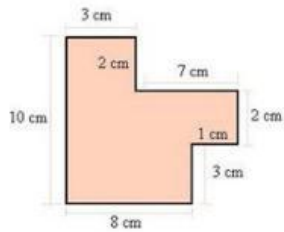
3786 mm = ____ m y _____ mm

3567 cts = _____ €

300 min = _____ h

10. Calcula:

El perímetro de esta figura:



El área de esta figura:

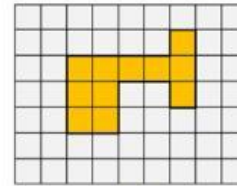


FIGURA 1

11. Resuelve:

Iñigo tiene 5 € y 70 céntimos, y su hermana Begoña 30 céntimos más. ¿Cuánto dinero tienen entre los dos?

12. Un camión transporta 25 caballos en cada viaje. ¿Cuántos caballos transportará en tres viajes?