

LKPD

ILMU PENGETAHUAN ALAM DAN SOSIAL

TEMA : BAGIAN-BAGIAN TUMBUHAN DAN FUNGSINYA



Nama :

Kelas :

Tujuan Pembelajaran

- 1. SISWA MAMPU MENYEBUTKAN BAGIAN-BAGIAN TUMBUHAN SEPERTI AKAR, BATANG, DAUN, BUNGA DAN BUAH DENGAN BENAR**
- 2. SISWA MAMPU MENJELASKAN FUNGSI DARI SETIAP BAGIAN TUMBUHAN SECARA TEPAT DAN JELAS**
- 3. SISWA MAMPU MENGHUBUNGKAN BAGIAN BAGIAN TUMBUHAN DENGAN FUNGSI NYA DALAM KEHIDUPAN SEHARI-HARI MELALUI CONTOH YANG SESUAI**

BAGIAN 1

Petunjuk: Hubungkan gambar bagian tumbuhan berikut dengan nama dan fungsinya!




Buah

Menyerap air




Bunga

Menopang tumbuhan



Daun

Membuat makanan



Akar

Alat perkembangbiakan




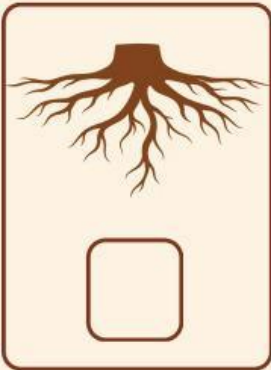
Batang

Calon tumbuhan

BAGIAN 2

Beri tanda centang pada gambar bagian tumbuhan yang sesuai dengan deskripsi fungsinya.


bagian tumbuhan yang berfungsi menyerap air dan mineral dari tanah.




Bagian tumbuhan yang digunakan untuk memproduksi makanan




Bagian tumbuhan yang berfungsi melindungi biji



Bagian tumbuhan yang berfungsi menopang tumbuhan



Teka-Teki Silang (TTS)



Mendatar

1. Bagian tumbuhan yang berwarna hijau Tempat fotosintesis.
4. Bagian tumbuhan yang akan tumbuh menjadi tanaman baru.

Menurun

2. Bagian tumbuhan yang berada di dalam tanah. Menyerap air dan mineral.
3. Bagian tumbuhan yang berwarna warni dan berfungsi untuk berkembang biak
5. Bagian tumbuhan yang tegak, menopang daun, bunga, dan buah