



EXAMEN SEGUNDO TRIMESTRE

ASIGNATURA: MATEMÁTICA	AÑO DE BÁSICA: CUARTO AÑO	PARALELO: “A”	FECHA:	Nota:
NOMBRE DEL ESTUDIANTE:				

2.- INSTRUCCIONES GENERALES:

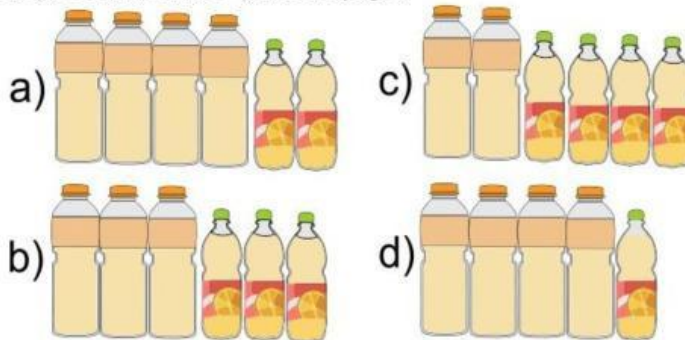
- ✓ Lea con atención cada una de las preguntas.
- ✓ Procure responder a las preguntas de manera autónoma.
- ✓ Escuche con atención las instrucciones que imparte el docente.

1. En la tienda de Don Pepe venden el jugo de naranja en estos envases:

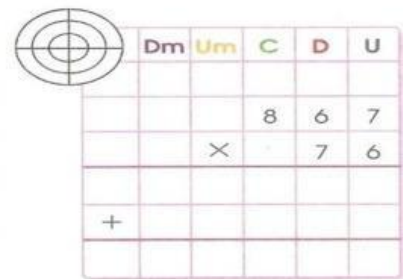
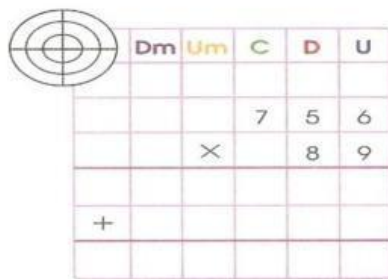
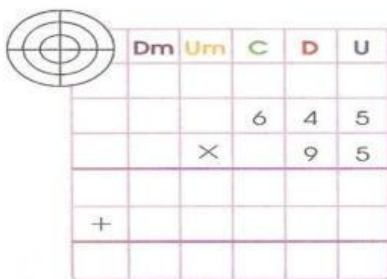
1punto



Elige la opción que representa 2 litros y 1/2 de jugo.




2. Pinta del mismo color de los dardos, los discos de tiro al blanco que corresponda según los resultados:
1,5pts.




3. Calcule el producto de las siguientes multiplicaciones:


1,5 pts.


$8 \times 10 =$ 

$b. 93 \times 10 =$ 

$8 \times 100 =$ 

$93 \times 100 =$ 

$8 \times 1\,000 =$ 

$93 \times 1\,000 =$ 

4. Observa los precios de los artículos y responde las preguntas.

1 punto



Miguel compró:



Lorena compró:



¿Cuánto pagó?

¿Cuánto pagó?

a) \$ 120 pesos.

c) \$ 93 pesos.

a) \$ 96 pesos.

c) \$100 pesos.

b) \$ 121 pesos.

d) \$ 210 pesos.

b) \$ 78 pesos.

d) \$ 87 pesos.

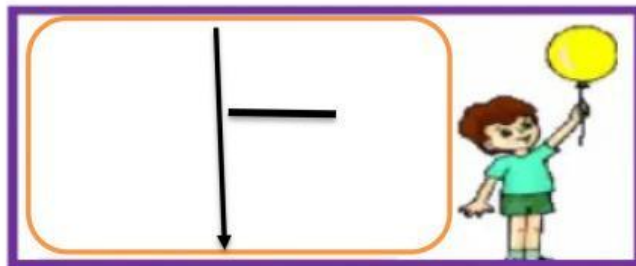
5. Lee el siguiente problema y resuelve

1 punto

Camilo tiene 72 globos para repartir entre sus 9 compañeros.

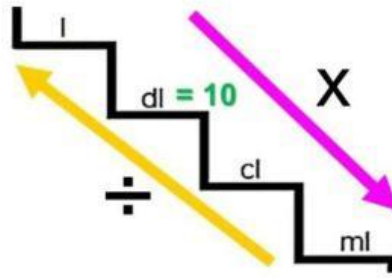
¿Cuántos globos les toca a cada uno?

- A. 8
- B. 9
- C. 7
- D. 6



6. Convertir medidas de capacidad:

1 punto



Litro a Decilitro

¿Cuántos decilitros son 300 litros?

Multiplicamos:

$$= 300 \times \underline{\hspace{2cm}}$$

$$= \underline{\hspace{2cm}}$$

$$= \underline{\hspace{2cm}} \text{ dl}$$

Decilitro a Litro

Convierte 5400 decilitros a litros.

Dividimos:

$$= 5400 / \underline{\hspace{2cm}}$$

$$= \underline{\hspace{2cm}}$$

$$= \underline{\hspace{2cm}} \text{ l}$$

7. Observar en el gráfico de barras el crecimiento de Inés y conteste las preguntas:

1 punto

¿Cuánto medía Inés al año de edad? _____


¿Cuánto mide ahora? _____

¿Cuántos centímetros ha crecido Inés desde que tenía 1 año hasta 10 años? _____



8. 20, Los múltiplos y submúltiplos del litro que se usan para medir diferentes cantidades de líquido son: 1 punto

- A) Kilolitro y hectolitro
- B) Centilitro y decilitro
- C) Metro y decámetro
- D) Gramo y miligramo



9. ESCOGE DE LA NUBE LOS TÉRMINOS DE LA DIVISIÓN, ESCRIBE CADA TÉRMINO DONDE CORRESPONDE. 1 punto

$$\begin{array}{r}
 \boxed{} \rightarrow 24 \quad | \quad 3 \leftarrow \boxed{} \\
 -24 \quad 8 \leftarrow \boxed{} \\
 \hline
 \boxed{} \rightarrow 0
 \end{array}$$



DISEÑADO POR:	REVISADO POR:	REVISADO/APROBADO POR:	
DOCENTES NIVEL/ÁREA Isaías Chiguano, Mariela Layedra Bersabeth Carrasco	COORDINADORA NIVEL/ÁREA PEDAGÓGICO Lcda. Bersabeth Carrasco 	JUNTA ACADEMICA	SUBDIRECCIÓN
 	Fecha:	Fecha:	Fecha:

--	--	--	--