

Universidad Técnica de Machala

Asignatura: Tecnología Educativa

Evaluación de Matemáticas

Curso: Quinto de Básica

Fecha: 03 de junio

1. Completar con una palabra

La suma de $25 + 15$ es _____.

2. Opción única (choice)

¿Cuál es el resultado de $48 \div 6$?

• a)

• b)

• c)

• d)

3. Casilla de verificación (checkboxes)

Selecciona las operaciones que tienen como resultado 20:

 $10+10$ $25-5$ 4×5 $30 \div 2$ $12+9$



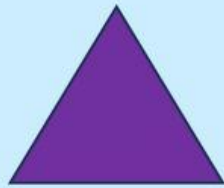
4. Casilla de seleccionar (dropdown) Elige el número romano que corresponde al número 12:

- IX
- XI
- XII
- XIII

5. Drag & Drop (arrastrar y soltar) Arrastra cada número a su resultado correcto:

- $7 + 3 \rightarrow [10]$
- $9 - 4 \rightarrow [5]$
- $6 \times 2 \rightarrow [12]$
- $20 \div 5 \rightarrow [4]$

6. Unir con líneas (matching) Relaciona la figura con el número de lados:



6

5

4

3