



# E-LKPD

## Ilmu Pengetahuan Alam

### MENGENAL BAGIAN TUBUH MANUSIA, HEWAN DAN TUMBUHAN

Nama : .....  
Kelas : .....

DOSEN PENGAMPU  
I PUTU SUARDIPA

PENULIS  
LUH NOVI EKA WAHYUNI

2

# CP & TP

## Capaian Pembelajaran

**Berfokus pada pemahaman karakteristik, siklus hidup, tempat hidup, serta peranannya dalam lingkungan.**

## Tujuan Pembelajaran

**Agar siswa mampu membedakan konsep pertumbuhan dan perkembangan, menjelaskan tahapan siklus hidup manusia, hewan, dan tumbuhan**

# **PETUNJUK PENGGUANAAN**

**Sebelum memulai mengerjakan lembar kerja ini, perhatikan beberapa hal berikut:**

**Berdoa Terlebih Dahulu:** Awali kegiatan belajar dengan berdoa sesuai keyakinan masing-masing.

**Identitas Diri:** Tuliskan nama lengkap, kelas, dan nomor absen pada kolom yang telah disediakan di halaman depan.

**Pahami Tujuan:** Bacalah Tujuan Pembelajaran yang ingin dicapai dalam LKPD ini agar kamu tahu arah belajarmu.

**Membaca Literasi:** Bacalah ringkasan materi atau artikel pendukung yang ada di dalam LKPD ini dengan saksama sebelum menjawab pertanyaan.

**Langkah Kegiatan:** Ikuti setiap instruksi dan langkah-langkah kegiatan secara runtut/berurutan.

# BAGIAN TUMBUHAN

**Bunga**

Alat Perkembangan  
atau Pertumbuhan

**Daun**

Tempat Menyimpan  
Cadangan Air dan  
makanan

**Buah**

Tempat Penyimpanan  
Biji

**Ranting**

Tempat Melekat  
Daun, Bunga, Dan Buah

**Benih**

Untuk  
Memperbanyak  
Tanaman

**Batang**

Tempat Penopang yang  
membuat tumbuhan  
tertat berdiri

**Akar**

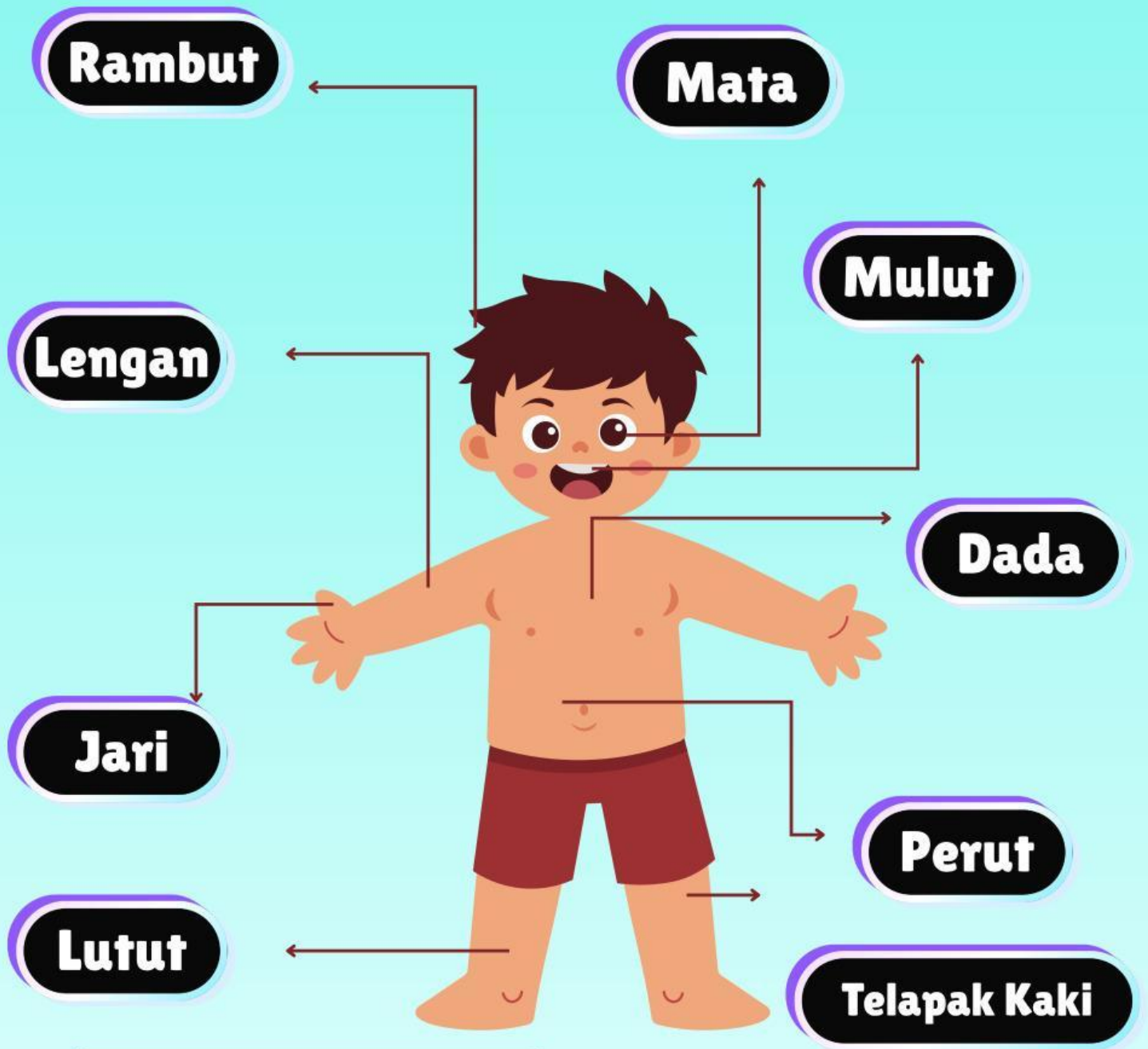
Tempat untuk  
Mengikat Tumbuhan Di  
Tanah dan Menyerap  
Air



<https://youtu.be/P0hSzcBEPZg?si=zVakNvxaVSiL0aBP>



# BAGIAN MANUSIA



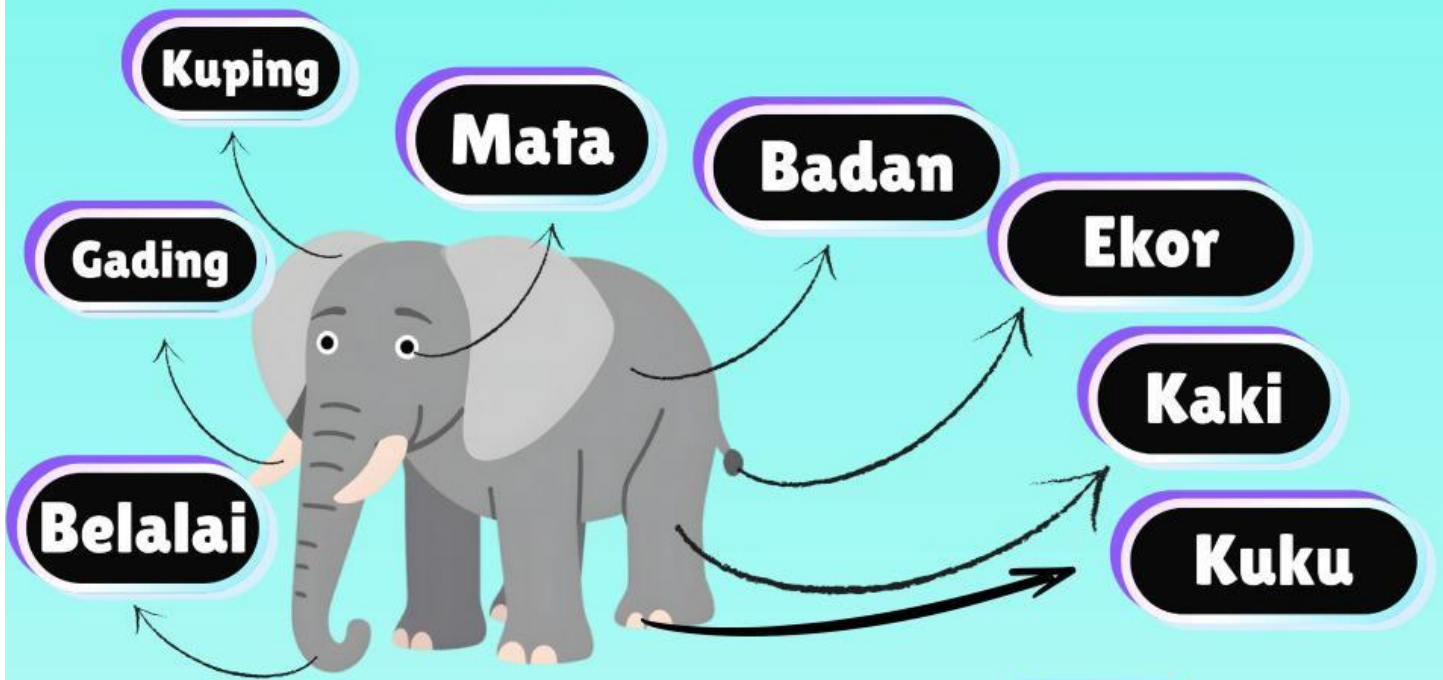
[https://youtu.be/4dNcoWNdNFU?](https://youtu.be/4dNcoWNdNFU?si=NUwWurOK0OZdYWH1)

[FU?](https://youtu.be/4dNcoWNdNFU?si=NUwWurOK0OZdYWH1)

[si=NUwWurOK0OZdYWH1](https://youtu.be/4dNcoWNdNFU?si=NUwWurOK0OZdYWH1)

 **LIVEWORKSHEETS**

# BAGIAN HEWAN



[https://youtu.be/o\\_19t03-bRA?  
si=DN89Xw9oACC0RFsJ](https://youtu.be/o_19t03-bRA?si=DN89Xw9oACC0RFsJ)

## KEGIATAN 1

# FUNGSI PANCA INDRA

Tarik garis untuk memasangkan setiap gambar indra dengan fungsi yang sesuai.



## KEGIATAN 2

# MENCOCOKKAN NAMA BAGIAN TUMBUHAN

Tarik garis untuk menghubungkan gambar bagian  
Tumbuhan dengan namanya!



•

•

**DAUN**



•

•

**AKAR**



•

•

**BUNGA**



•

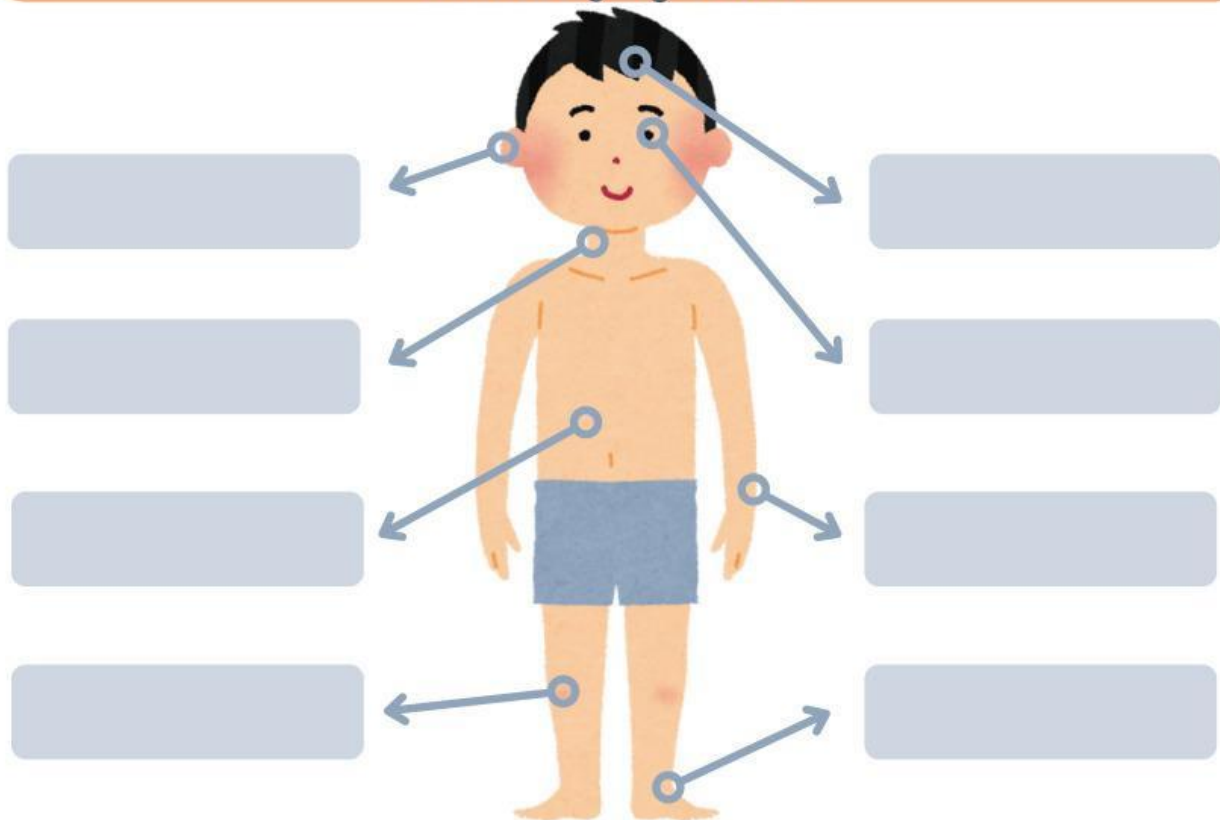
•

**BUAH**

### KEGIATAN 3

# MENGENAL BAGIAN TUBUH

Gunting dan tempel nama-nama dari bagian tubuh manusia yang sesuai!



KEPALA

TELINGA

KAKI

MATA

LEHER

TANGAN

PERUT

LUTUT

## KEGIATAN 4


# BAGIAN TUBUH HEWAN

Perhatikan gambar bagian tubuh, lalu beri tanda ceklis pada nama bagian tubuh yang benar sesuai gambar!




PARUH

EKOR




SIRIP

GIGI



SAYAP

BELALAI




MATA

TELINGA



SAYAP

KAKI



KAKI

MATA