

LKPD

ILMU PENGETAHUN ALAM

Tema: Mengenal Pancaindra Manusia



Nama:

Kelas:

TUJUAN PEMBELAJARAN

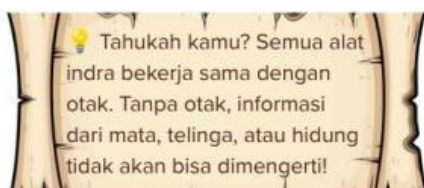
1. MENGIDENTIFIKASI NAMA DAN LETAK ORGAN PANCAINDRA PADA TUBUH MANUSIA
2. MENJELASKAN FUNGSI MASING-MASING ALAT INDRA DENGAN TEPAT
3. MENGHUBUNGGAN JENIS RANGSANG DENGAN ALAT INDRA YANG SESUAI
4. MENYEBUTKAN CARA MERAWAT KESEHATAN ALAT INDRA

1. MARI MEMBACA DAN MENYIMAK!

[HTTPS://YOUTU.BE/QLY9C_DRHVQ?SI=XOPBDWSDHRMZNGMX](https://youtu.be/QLY9C_DRHVQ?si=XOPBDWSDHRMZNGMX)

Apa itu Pancaindra?

Pancaindra adalah lima alat indra yang dimiliki manusia untuk mengenali lingkungan sekitar. Setiap alat indra memiliki organ khusus dan peka terhadap rangsang tertentu. Informasi yang diterima alat indra dikirim ke otak melalui sistem saraf, lalu otak memproses dan memberikan respons.



MENCOCOKKAN PANCAINDRA MANUSIA

Amati gambar pancaindra manusia di sebelah kiri. Hubungkan dengan nama pancaindra tersebut.



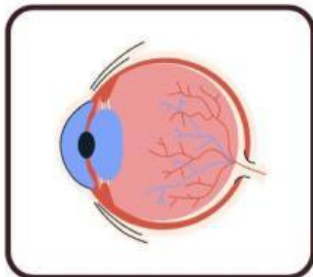
MATA



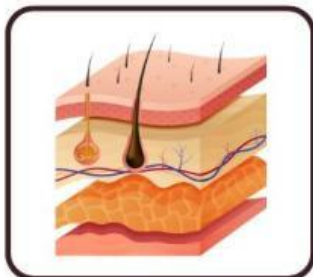
HIDUNG



KULIT



TELINGA



LIDAH

MENCOCOKKAN PANCAINDRA MANUSIA

Amati gambar pancaindra manusia di sebelah kiri. Hubungkan dengan nama pancaindra tersebut.



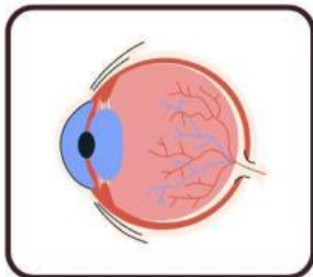
MATA



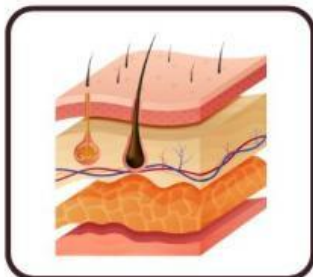
HIDUNG



KULIT



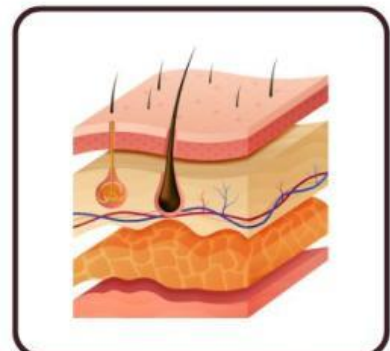
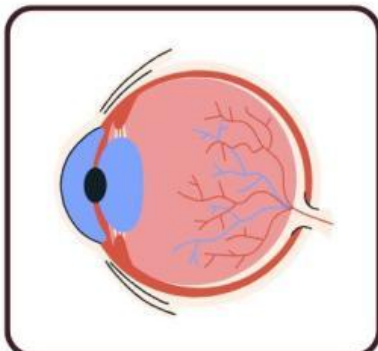
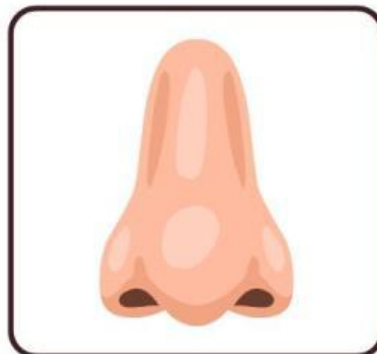
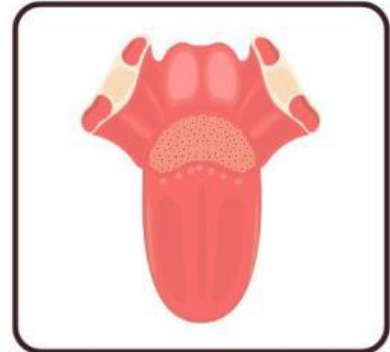
TELINGA



LIDAH

MENGENAL PANCAINDRA MANUSIA

Amati gambar pancaindra manusia di bawah ini, lalu tuliskan nama pancaindra yang sesuai!



FUNGSI PANCAINDRA MANUSIA

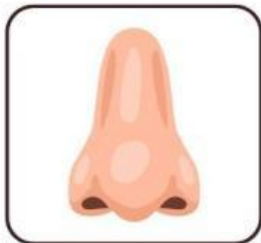
Cocokkan pancaindra dengan fungsinya yang tepat! Tarik garis dari gambar ke fungsi.



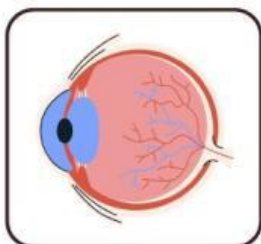
Untuk mencium bau



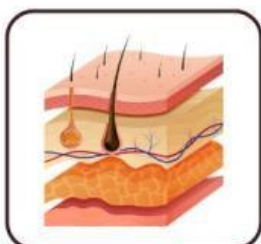
Untuk melihat warna dan bentuk



Untuk merasakan sentuhan



Untuk mendengar suara



Untuk merasakan rasa makanan

MENGENAL PANCAINDRA MANUSIA

Bacalah cerita di bawah ini, lalu isilah jawaban sesuai pertanyaan yang tersedia!

1. Sinta sedang membaca buku cerita di ruang tamu. Ia sangat senang melihat gambar-gambar yang berwarna. Pancaindra apa yang digunakan Sinta? _____

2. Roni mendengar suara hujan dari jendela. Ia segera mengambil jas hujan. Apa nama alat tubuh yang membantunya mendengar suara hujan? _____

3. Bunga mawar di taman rumah Dina sangat harum. Ia mendekatkan wajahnya dan mencium aromanya. Bagian tubuh apa yang digunakan Dina? _____

4. Farah makan buah jeruk yang rasanya asam. Ia tertawa karena rasanya mengejutkan. Pancaindra apa yang digunakan Farah? _____

5. Saat bermain di halaman, kaki Andi menginjak rumput yang dingin dan basah. Ia bisa merasakan itu dengan pancaindra apa? _____

MENULIS FUNGSI DAN CARA MERAWAT PANCAINDRA

Amati gambar pancaindra manusia. Isilah fungsi dan cara merawat pancaindra manusia yang sesuai!

PANCAINDRA	FUNGSI	CARA MERAWAT
		
		
		
		
		