



PEMERINTAH KOTA PALEMBANG
DINAS PENDIDIKAN
SEKOLAH DASAR NEGERI 236 PALEMBANG
Jl. Robani Kadir Lrg. Pendidikan Sungai Pinang, Plaju Palembang



Asesmen Sumatif Akhir Semester (ASAS)
Tahun Pelajaran 2025/2026

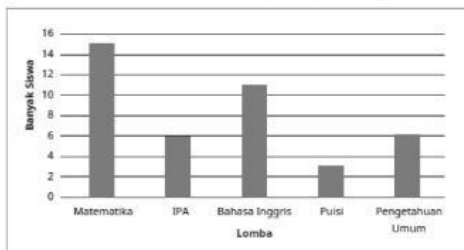
Mata Pelajaran : Matematika
Semester : Genap

Kelas : V (Lima)
Waktu : 90 Menit

A. Pilihan Ganda Biasa

Berilah tanda silang (X) pada huruf a, b, c, atau d sesuai jawaban yang paling tepat!

- Dari nama – nama benda dibawah ini, manakah benda yang memiliki sudut siku – siku...
 - Pena
 - Buku
 - Bola
 - Pensil
- Sudut adalah daerah yang dibentuk oleh dua garis yang bertemu pada satu ...
 - Titik
 - Tali
 - Sisi
 - Bidang
- Segitiga adalah bangun datar yang dibatasi oleh tiga sisi. Segitiga yang ketiga sisinya sama panjang disebut segitiga ...
 - Siku – siku
 - Sembarang
 - Sama Sisi
 - Tumpul
- Tabel dalam pengumpulan data biasa dikenal dengan istilah tabel ...
 - Excel
 - Matematika
 - Jual Beli
 - Frekuensi
- Perhatikan kalimat Matematika berikut ini “delapan ratus tujuh puluh lima ribu empat ratus dua puluh delapan rupiah”. Pilihlah angka yang tepat dengan kalimat matematika tersebut.
 - Rp.875.824
 - Rp.875.428
 - Rp.875.842
 - Rp.875.248
- Nilai tempat 6 pada angka 720.736 adalah ...
 - Satuan
 - Puluhan
 - Ribuan
 - Ratusan
- Banyaknya siswa kelas V yang mengikuti lomba disajikan diagram batang berikut.



Berapa jumlah siswa yang mengikuti lomba matematika dan puisi?

- 18 siswa
- 19 siswa
- 24 siswa
- 25 siswa

B. Pilihan Ganda Kompleks

Berilah tanda centang (✓) pada jawaban yang benar! Jawaban lebih dari satu.

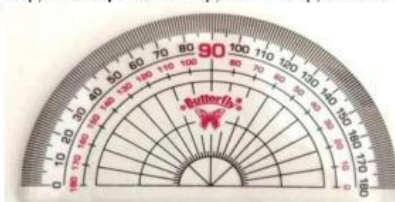
8. Pilihlah benda – benda dibawah ini yang benar, yang memiliki sudut siku – siku!

- Buku Tulis
- Penggaris
- Papan tulis
- Pensil

9. Permukaan atas meja belajar disekolah terdapat sudut ...

- 90°
- Siku-siku
- Sembilan puluh derajat
- Tumpul

10. Dibawah ini yang merupakan bagian – bagian dari busur derajat yang benar adalah ...



- Putus-putus
- Skala Bagian Luar
- Garis dasar
- Skala bagian dalam

11. Dibawah ini yang merupakan langkah – langkah menggambar sudut yang benar adalah ...

- Menggunakan skala
- Letakkan pusat busur derajat pada titik sudut
- Buat titik pada angka sudut yang akan dibuat
- Angkat busur derajat lalu hubungkan titik sudut dan titik yang dibuat

12. Dibawah ini yang termasuk kedalam sudut lancip adalah ...

- Sudut 100°
- Sudut 70°
- Sudut 50°
- Sudut 60°

13. Dibawah ini yang termasuk kedalam sudut tumpul adalah ...

- Sudut 90°
- Sudut 100°
- Sudut 130°
- Sudut 140°

14. Segi empat adalah bangun datar yang dibatasi oleh empat sisi. Dari gambar dibawah ini yang merupakan segi empat adalah ...



- Persegi
- Persegi panjang
- Lingkaran
- Belah ketupat

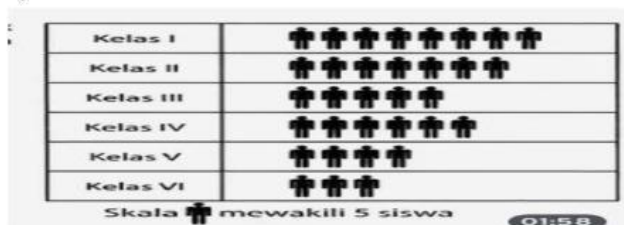
15. Dibawah ini yang *tidak* termasuk kedalam bangun datar adalah ...

- Nasi
- Bola
- Segitiga
- Mobil

16. Dibawah ini yang termasuk kedalam jenis – jenis diagram batang adalah ...

- Diagram batang gambar ganda
- Diagram batang semu
- Diagram batang vertikal
- Diagram batang horizontal

17. Diagram berikut menunjukkan banyak siswa yang bersekolah disuatu Sekolah dasar pada tahun 2023. Banyaknya siswa kelas IV adalah ...



- 25
- 30
- Dua puluh lima
- Tiga puluh

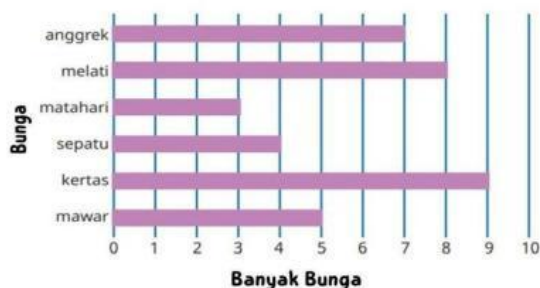
18. Diagram batang berikut ini menunjukkan minat siswa kelas V.A yang bersekolah disuatu Sekolah dasar pada tahun 2023 terhadap buah – buahan.



Berdasarkan diagram diatas dua buah yang paling di minati adalah ...

- Mangga dan Jeruk
- Nanas dan Apel
- Apel dan Nanas
- Salak dan Pepaya

19. Diagram batang berikut ini menunjukkan minat siswa perempuan kelas V.B yang bersekolah disuatu Sekolah Dasar pada tahun 2023 terhadap bunga.



Berdasarkan diagram diatas dua bunga yang paling sedikit di minati adalah ...

- Sepatu dan Matahari
- Matahari dan Sepatu
- Sepatu dan Kertas
- Anggrek dan Melati

20. Diantara bilangan – bilangan dibawah ini yang lebih besar dari 450.000 adalah...

- 435.550
- 455.050
- 465.432
- 452.100

21. Diantara bilangan – bilangan dibawah ini yang lebih kecil dari 345.000 adalah..

- 345.678
- 345.789
- 304.567
- 300.456

22. Perhatikan tabel dibawah ini!

Harga Sepatu Komang	Harga Sepatu Lukas	Harga Sepatu Nisa
Rp342.231,00	Rp432.543,00	Rp232.231,00

Berdasarkan tabel harga sepatu diatas, dibawah ini harga sepatu yang lebih murah dari harga sepatu Lukas adalah ...

- Rp. 432.100,00
- Rp. 403.210,00
- Rp. 423.450,00
- Rp. 443.254,00

23. Diantara bilangan – bilangan dibawah ini yang lebih kecil dari 288.500 adalah..

- Rp. 288.100,00
- Rp. 288.210,00
- Rp. 280.450,00
- Rp. 288.754,00

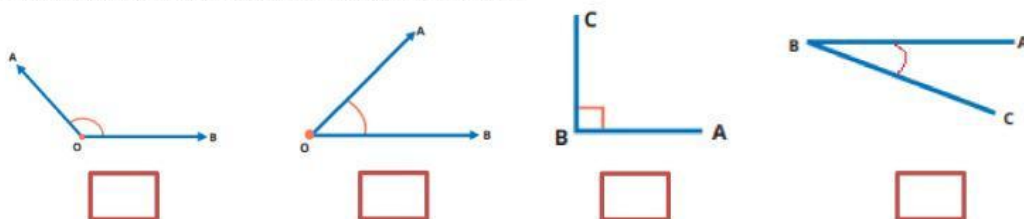
24. Besar sudut pukul 15.00 adalah ..

- 90 derajat
- Sembilan puluh derajat
- 60 derajat
- Enam puluh derajat

25. Jika kita mempunyai 2 ratus ribuan, 3 ribuan, 3 puluhan dan 5 satuan maka bentuk angkanya adalah ...

- 2.354
- 2.335
- 2.533
- 2.335

26. Gambar yang memiliki sudut lancip adalah



27. Pernyataan yang sesuai dengan data di bawah ini adalah



- Jumlah siswa yang naik sepeda adalah 9 orang
- Cara berangkat paling banyak adalah berjalan kaki
- Cara berangkat paling sedikit adalah menggunakan angkutan umum
- Jumlah siswa kelas V SD Pancasila adalah 24 orang

28. Arah jarum jam akan membentuk sudut sesuai dengan angka yang ditunjuk oleh jarum jam. Arah jarum jam yang membentuk sudut siku-siku adalah pada saat pukul

- 08:00
- 09:00
- 13:00
- 15:00