

## FIȘĂ DE LUCRU

D.Ș. – Activitate matematică – Mijloace de transport

1. Colorează atâtea mijloace de transport cât îți indică cifra.

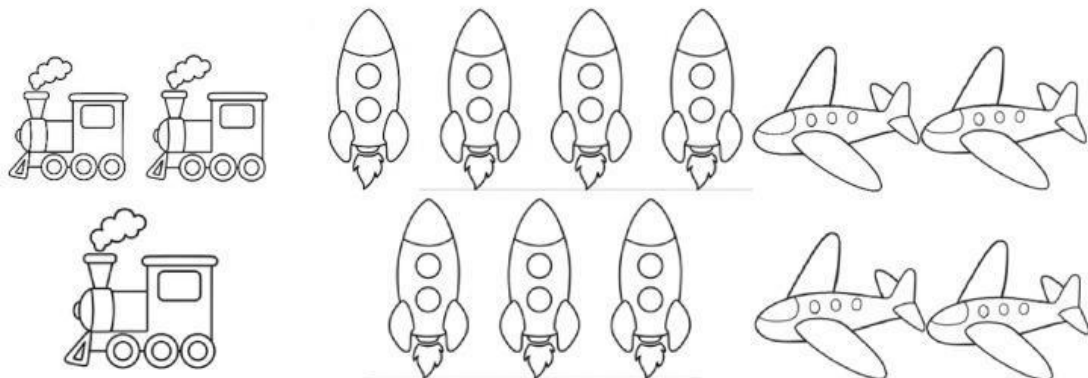


4



6

2. Realizează prin încercuire mulțimi de elemente de același fel.



3. Încercuiește cifra corectă.





5	2	3
---	---	---



6	7	8
---	---	---

4. Numără mijloacele de transport și trasează tot atâtea liniițe verticale în căsuța de alături.

5. Asociază cifra cu mulțimea corespunzătoare.



3



6



7