

Matemáticas A1

1.- Compara y escribe el símbolo mayor que, menor que e igual (> < =)

25 12


18 20

34 34


9 17


2.- Escribe el número natural en cada ejemplo


Escribe el número:



34







Cuenta y escribe cuántos hay:









57

3.- Completa la serie numérica ascendente y descendente

10			13				16		17
	52		50			47	46		44

4.- Une con líneas el resultado correcto de las siguientes sumas

