

CÁLCULO

1. Calcula.

$216 + 232 = \square$ $441 + 325 = \square$ $513 + 285 = \square$

$542 + 233 = \square$ $624 + 244 = \square$ $307 + 281 = \square$

$297 - 164 = \square$ $327 - 115 = \square$ $449 - 241 = \square$

$534 - 224 = \square$ $781 - 351 = \square$ $875 - 264 = \square$

2. Continúa las series.

| | | | | | | | | |
|-----|-----|--|--|--|--|--|--|--|
| 100 | 105 | | | | | | | |
|-----|-----|--|--|--|--|--|--|--|

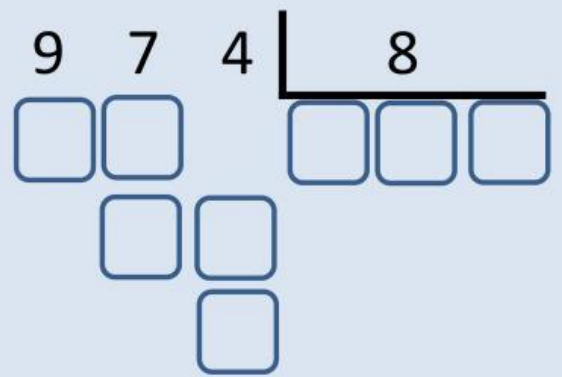
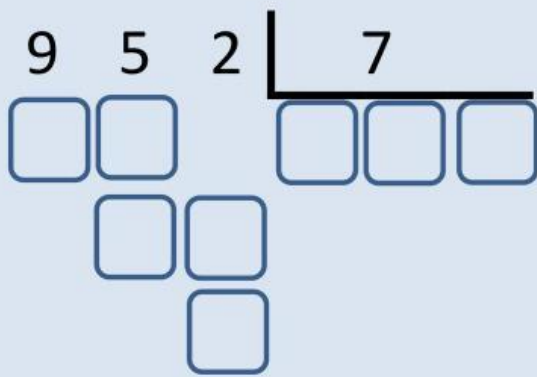
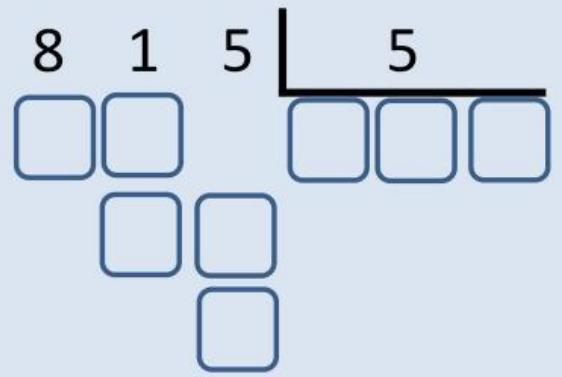
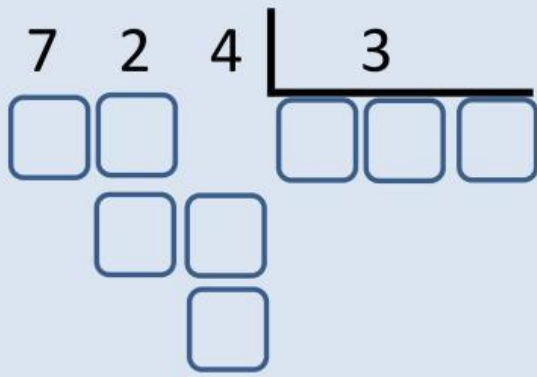
| | | | | | | | | |
|-----|-----|--|--|--|--|--|--|--|
| 200 | 215 | | | | | | | |
|-----|-----|--|--|--|--|--|--|--|

| | | | | | | | | |
|-----|-----|--|--|--|--|--|--|--|
| 300 | 325 | | | | | | | |
|-----|-----|--|--|--|--|--|--|--|

| | | | | | | | | |
|-----|-----|--|--|--|--|--|--|--|
| 400 | 430 | | | | | | | |
|-----|-----|--|--|--|--|--|--|--|

| | | | | | | | | |
|-----|-----|--|--|--|--|--|--|--|
| 500 | 545 | | | | | | | |
|-----|-----|--|--|--|--|--|--|--|

| | | | | | | | | |
|-----|-----|--|--|--|--|--|--|--|
| 600 | 650 | | | | | | | |
|-----|-----|--|--|--|--|--|--|--|



| DM | UM | C | D | U |
|----|----|---|---|---|
| | 3 | 2 | 5 | 4 |
| | | | X | 4 |
| | | | | |

| DM | UM | C | D | U |
|----|----|---|---|---|
| | 9 | 8 | 7 | 3 |
| | | | X | 6 |
| | | | | |

| DM | UM | C | D | U |
|----|----|---|---|---|
| | 2 | 9 | 8 | 4 |
| | | | X | 8 |
| | | | | |

| DM | UM | C | D | U |
|----|----|---|---|---|
| | 3 | 2 | 5 | 7 |
| | | | X | 9 |
| | | | | |