

# LAMPIRAN 3

# LEMBAR KERJA PESERTA DIDIK (LKPD)

## Identitas

Nama Kelompok : .....

Anggota : .....

Fase/Kelas/Semester : C/V/2

## Tujuan LKPD

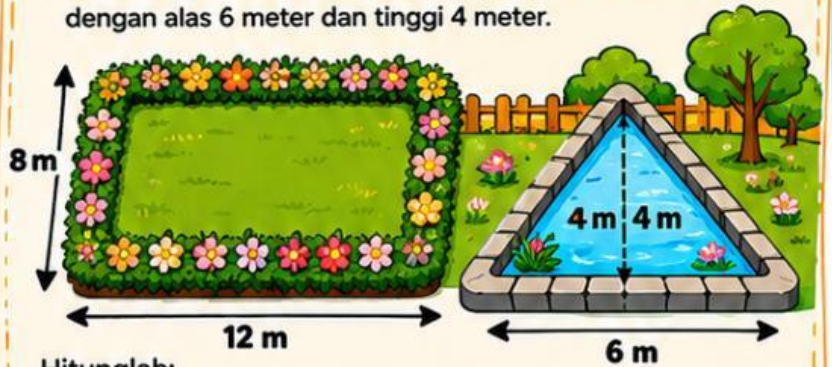
Peserta didik mampu memecahkan masalah yang berkaitan dengan luas berbagai bentuk bangun datar dalam kehidupan sehari-hari.

## Petunjuk Kerja

- 1 Bacalah masalah berikut dengan cermat.
- 2 Diskusikan bersama kelompokmu.
- 3 Tentukan rumus yang tepat.
- 4 Tuliskan langkah penyelesaian secara lengkap.

## Permasalahan



Sekolah memiliki taman berbentuk persegi panjang dengan panjang 12 meter dan lebar 8 meter. Di samping taman terdapat kolam berbentuk segitiga dengan alas 6 meter dan tinggi 4 meter.



Hitunglah:

- 1 Luas taman
- 2 Luas kolam
- 3 Total seluruh luas area (taman + kolam)

## Jawaban Kelompok

Bangun Datar	Rumus	Perhitungan	Hasil
 Persegi Panjang			
 Segitiga			
Total Luas (Taman + Kolam) 			

## Kesimpulan

.....

.....

.....