

LKPD

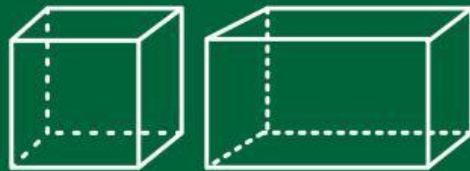
Matematika

Kelas v

Bangun Ruang



Menguraikan
Bangun Ruang



Nama: _____

Kelas: _____

Tujuan Pembelajaran

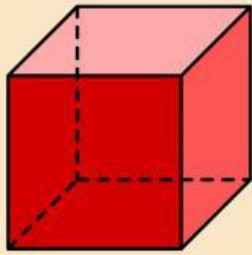
Peserta didik dapat membandingkan penguraian bangun ruang kubus, balok, dan gabungannya melalui pengamatan model bangun ruang dan gambar secara tepat.

Petunjuk Pengerjaan

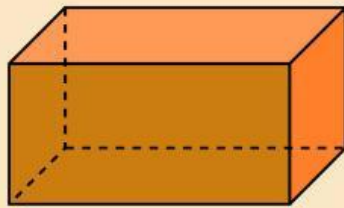
- Bacalah setiap instruksi dengan cermat.
- Amati model bangun ruang atau gambar yang diberikan.
- Diskusikan jawaban bersama kelompokmu.
- Isilah tabel dan jawablah pertanyaan pada tempat yang tersedia.
- Presentasikan hasil kerja kelompokmu di depan kelas.

Bagian 1


Amati gambar bangun ruang di bawah ini dengan saksama!



Kubus



Balok



Gabungan

Tuliskan ciri-ciri yang kamu temukan dari setiap bangun pada tabel berikut!

Bangun	Bentuk Sisi	Panjang Rusuk	Contoh Benda
Kubus			
Balok			
Gabungan			

Berdasarkan pengamatanmu, apa perbedaan antara kubus dan balok?

.....

.....

.....

.....


.....

.....

.....

.....

Bagian 2 Menguraikan Bangun Gabungan



Perhatikan Bangun Berikut!

1. Bangun tersebut disusun dari bangun ruang apa saja?

.....
.....

2. Berapa banyak kubus yang menyusun bangun tersebut?

.....
.....

3. Jika kamu menguraikan/memecah bangun tersebut, bangun apa saja yang kamu dapatkan?

.....
.....

Bagian 3

Membandingkan Hasil Penguraian

1. Apakah hasil penguraian bangun yang kamu buat sama dengan hasil penguraian teman kelompok lain?

.....

.....

.....

2. Apa persamaan dan perbedaan dari hasil penguraian tersebut?

.....

.....

.....