

Latihan 4 Matematika Bab 7

Nama/ No.Absen :

Kelas :




Ayo Berlatih 7.5

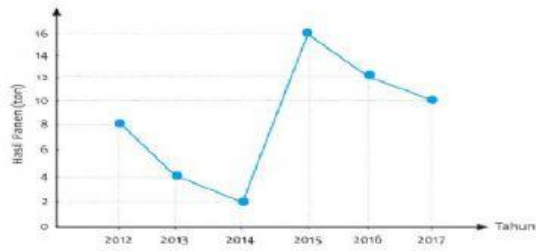
Kerjakan soal-soal berikut.

Pengunjung perpustakaan adalah sebagai berikut.

1. Pengunjung pada hari Kamis sebanyak ... orang.
2. Pengunjung yang paling banyak adalah hari ..., sebanyak ... orang.
3. Jumlah pengunjung pada hari Jumat dan Sabtu adalah ... orang.
4. Pengunjung pada hari ... sebanyak 90 orang.

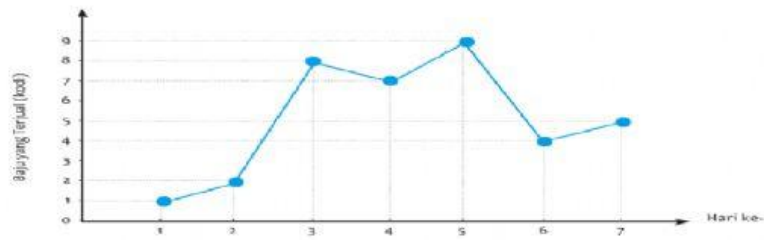


• Hasil Panen kedelai adalah sebagai berikut.



- Hasil panen kedelai paling sedikit terjadi pada tahun ..., sebesar ... ton.
- Hasil panen kedelai pada tahun 2016 sebesar ... ton.
- Hasil panen kedelai pada bulan tahun 2013 sebesar ... ton.
- Total hasil panen kedelai dari tahun 2012 sampai tahun 2017 adalah ... ton.

3. Penjualan baju selama 7 hari adalah sebagai berikut.



- Baju paling banyak terjual pada hari ke- ....
- Banyak baju yang terjual pada hari ke-3 adalah ... kodi.
- Pada hari ke-6 terjual sebanyak ... kodi baju.
- Jumlah baju yang terjual selama 7 hari adalah ... kodi.



- a. Judul diagram garis pada gambar adalah data .....
- b. Jumlah pengunjung hari Senin ada .....orang
- c. Jumlah pengunjung hari Selasa ada .....orang
- d. Jumlah pengunjung hari Rabu ada .....orang
- e. Jumlah pengunjung hari Kamis ada .....orang
- f. Jumlah pengunjung yang paling banyak ada di hari .....
- g. Jumlah pengunjung paling sedikit ada di hari .....
- h. Jumlah pengunjung seluruhnya dari Senin sampai Minggu ada.....orang