

KURIKULUM MERDEKA

# E-LKPD

# MATEMATIKA

## PENJUMLAHAN BILANGAN

UNTUK KELAS I SD/MI

**NAMA:**



DISUSUN OLEH : KELOMPOK 3











# Mainan di Rak



## PETUNJUK

Hitung semua mainan yang ada di rak-rak. Jumlahkan dan isi hasilnya.




# Ayo Cari Jumlah Buahnya!



Perintah:


Hitung jumlah buah pada setiap gambar, lalu tarik garis untuk hubungkan dengan angka yang benar!



4




5



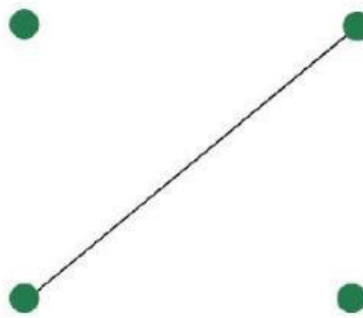
2



3



6



# Tambah Benda Yuk!



PETUNJUK :


Hitung jumlah seluruh benda dari dua kelompok dan tuliskan hasilnya.




.....



.....



.....



.....

# MARI BERHITUNG



## PETUNJUK :

Mari kita berlatih soal tentang penjumlahan sederhana!



Rizka memiliki 4 apel, dan ibu memberinya 5 apel lagi. Berapa jumlah apel Rizka sekarang?



Arief membeli 6 permen, lalu Alifia memberinya 3 permen lagi. Berapa total permen Arief?

