

Programa "Aula em Casa"

Aluno(a):

Turma: A ,B_º Ano

Professor(a): IDELMA APARECIDA CRISPIM

Período:
22 a 26 de março de 2021

Escola Municipal Dona Gabriela

2- FEIRA

QUESTÃO 01- Complete a tabela numérica de ordem sequencial.

A	1					6						1
												2
B	2					3						3
	5					0						6
C	1					1						1
	1					2						3
	9					4						0
D	2					2						2
	8					9						9
	6					1						7

QUESTÃO 02 - Resolva as situações problemas:

a-Ana tem 195 bolsas em sua coleção. QMaria tem 128. Quantas bolsas Ana têm a mais que Maria?

b-Uma loja de roupas recebeu 162 peças. Vendeu 42 das mesmas. Quantas peças restaram?

c-Se eu compro uma blusa por R\$16,00, quanto eu vou gastar para comprar três blusas?

QUESTÃO 03 - Leia os números e escreva os numerais por extenso;

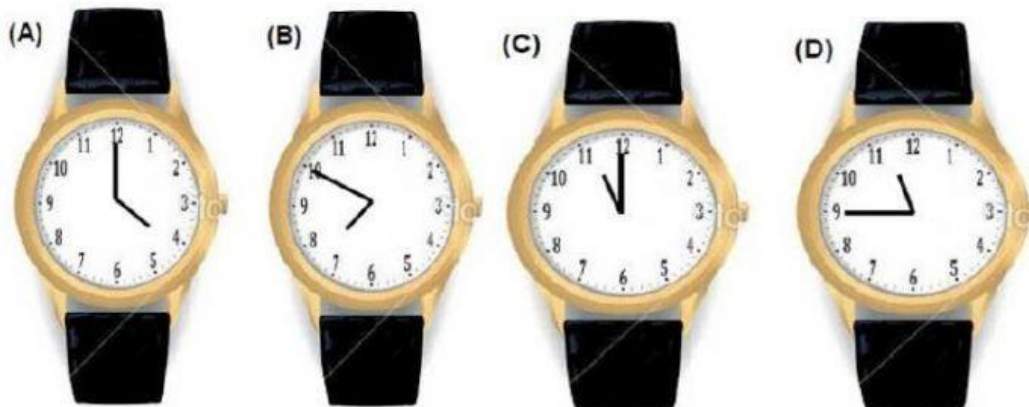
120-----
84-----
53-----
97-----
101-----

3ª FEIRA

QUESTÃO 04- Márcio chegou à escola às 7h e 45 minutos e foi embora 4 horas depois. Qual dos relógios abaixo marca a hora da saída de Márcio da escola?

Assista ao vídeo Medidas de tempo - Horas exatas, acessando o link:

<https://www.youtube.com/watch?v=4dhd_1nbk3w> Acesso em: 02 fev. 2021



QUESTÃO 05 - Estime seu tempo.

Pedro gasta, mais ou menos, 15 minutos para merendar. E você? Quanto tempo gasta, aproximadamente, para: Merendar?

() 20 minutos () 1 hora () 5 minutos

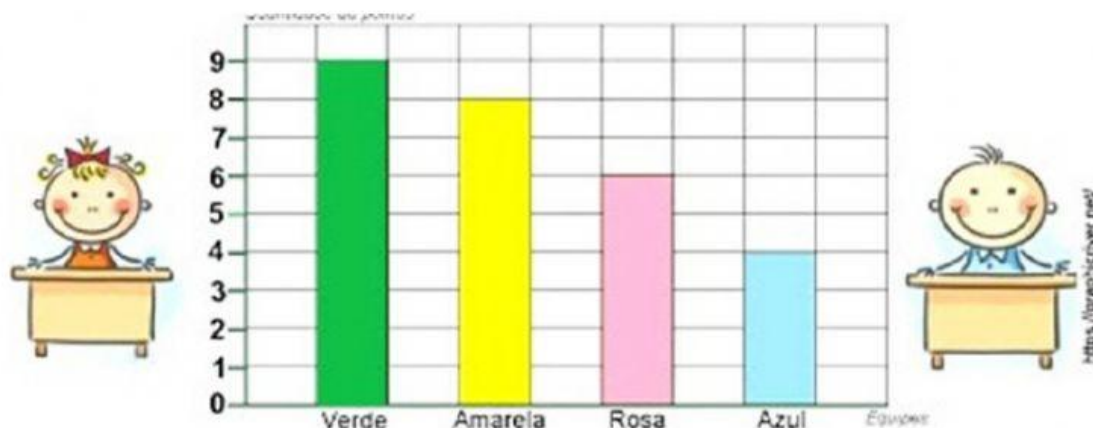
b) Vestir o uniforme?

() 1 minuto () 10 minutos () 1 hora

c) dormir?

() 40 minutos () 3 horas () 8 horas

QUESTÃO 06 - Observe na tabela o total de pontos feitos por cada equipe na brincadeira formando conjuntos, depois, faça o que se pede:



A) Qual equipe fez MAIS pontos?

B) Qual equipe fez MENOS pontos?

C) Quantos pontos fez a equipe Rosa?

D)Qual equipe fez 8 Pontos?

4ª FEIRA


1-Veja esta placa de trânsito. Ela é colocada próxima às escolas para orientar os motoristas.

A placa tem o formato que lembra um:

() RETÂNGULO () TRIÂNGULO

() QUADRADO () CÍRCULO

Esta figura tem _____ lados.



CIÊNCIAS

Leia o enunciado e responda as questões a seguir:

Nos dias de hoje, estamos passando por uma situação muito complicada no mundo: uma pandemia. Mas o que é pandemia? Pandemia é quando uma doença se espalha por uma grande quantidade de regiões do MUNDO. É o caso da COVID-19. A COVID-19 é uma doença causada pelo Coronavírus.

Na imagem abaixo segue algumas medidas de prevenção que devemos tomar para evitar a contaminação.



Fonte: <https://paraiba.pb.gov.br/diretas/secretaria-de-administracao/informativo-coronavirus>

De acordo com o texto o que é pandemia?

A) Como o Coronavírus pode ser


transmitido?

B) Como devemos nos cuidar para não se contaminar com o Coronavírus?-----

6ª FEIRA

ARTES

1- Observe as brincadeiras retratadas na tela de Ivan Cruz e responda.



Fonte; IVAN CRUZ - Acrilex Tintas Artísticas - acrillex.com.br

2- Escolha três brincadeiras de sua preferência e registre os nomes abaixo.

3- Com base nas brincadeiras que você escolheu quais foram as partes do corpo mais usadas para executar essas brincadeiras?

4- A arte permite inventar cores, formas e situações em comuns e fazer retratos expressivos, abstratos ou imaginários. Agora, você é o artista! Com base na tela retratada pelo autor Ivan Cruz e também nas brincadeiras que você costuma praticar, construa uma tela usando sua criatividade! Capriche!