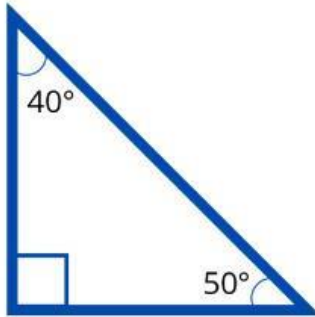
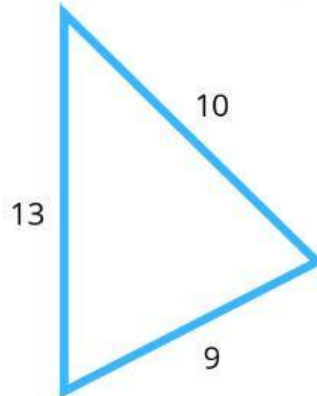


## Clasificación de triángulos

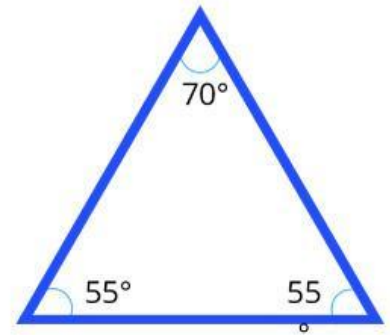
Clasifica cada triángulo de acuerdo con la información provista (por sus ángulos o por sus lados).



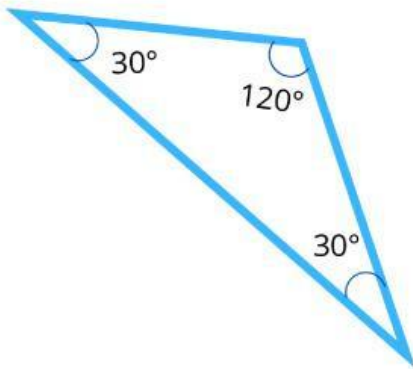
\_\_\_\_\_



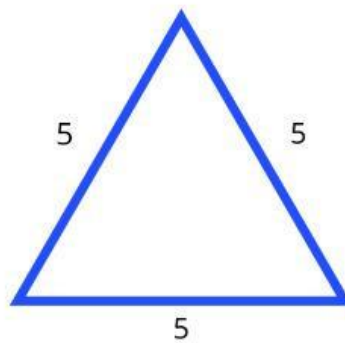
\_\_\_\_\_



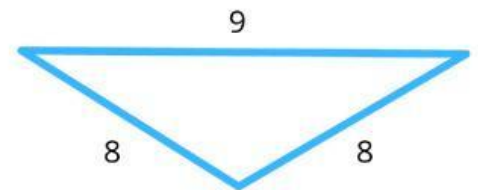
\_\_\_\_\_



\_\_\_\_\_



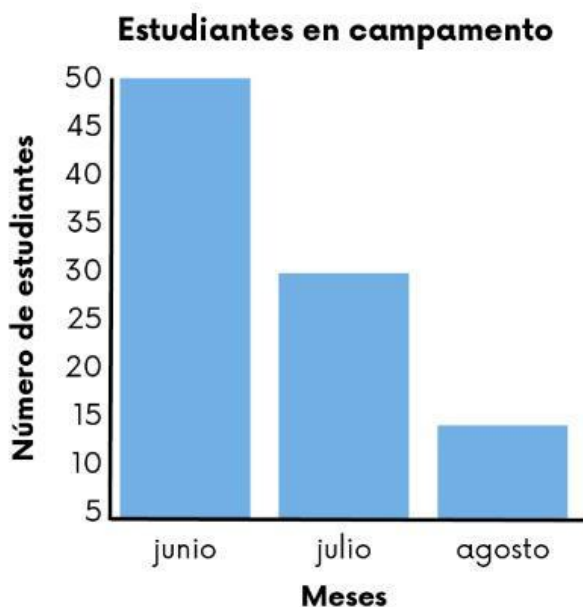
\_\_\_\_\_



\_\_\_\_\_

## Representación gráfica de datos

Analiza la gráfica y responde las preguntas.



1) ¿Cuántos estudiantes asistieron a algún campamento durante el verano?

2) ¿En qué mes asistieron menos estudiantes a algún campamento de verano? ¿Por qué crees asistieron menos estudiantes durante ese mes?