



## Tipos de ángulos

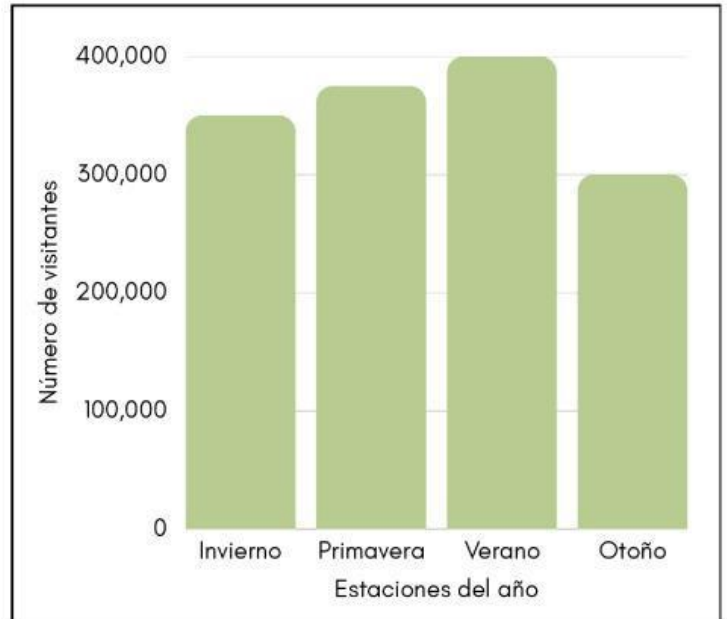
Identifica cada ángulo mostrado como agudo, recto u obtuso.



## Representación gráfica de datos

Analiza la gráfica y responde las preguntas.

El Castillo San Felipe del Morro es uno de los monumentos más emblemáticos de Puerto Rico. El Morro recibe anualmente más de 1.3 a 1.4 millones de visitantes.



1) ¿Cuándo el Castillo de San Felipe del Morro recibe más visitantes?

2) ¿Cuándo el Castillo de San Felipe del Morro recibe menos visitantes?

3) ¿Cuál crees que debería ser el título de la gráfica?

4) Escribe una observación a partir de los datos en la gráfica. Escríbela en oración completa.