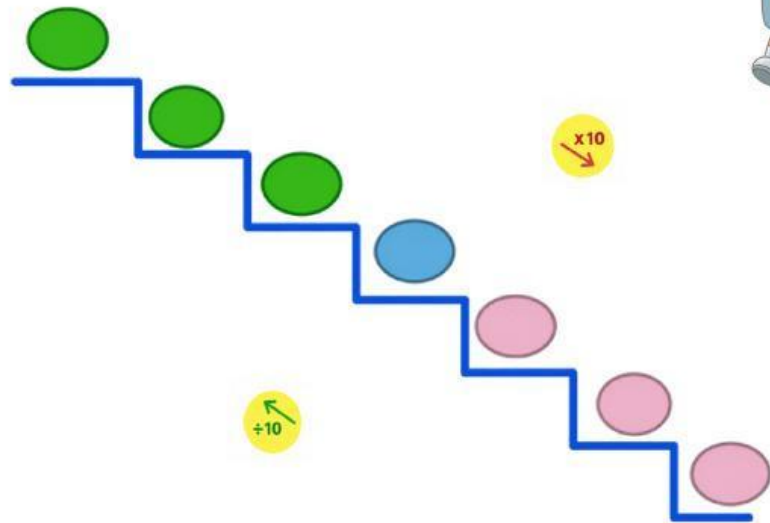




1.- Completa



2.- ¿Multiplico o divido? Escribe $\times 10$ o $\div 10$.

De km a hm \rightarrow _____

De m a dm \rightarrow _____

De hm a dam \rightarrow _____

De dm a cm \rightarrow _____

De dam a m \rightarrow _____

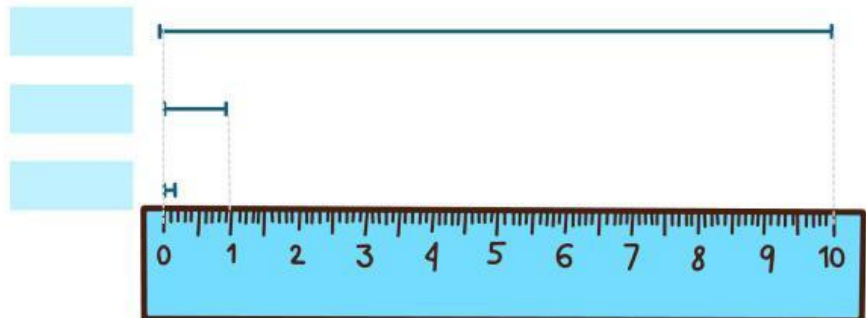
De cm a mm \rightarrow _____

3.- Completa con

1 dm

1 cm

1 mm



4.- ¿Qué unidad usarías? Instrucción: Elige la unidad más adecuada.

La longitud de un lápiz \rightarrow _____

La distancia entre dos ciudades \rightarrow _____

El grosor de una moneda \rightarrow _____

La altura de una puerta \rightarrow _____

El largo de una piscina \rightarrow _____

5.- Escribe las unidades de longitud en orden de mayor a menor.



6.- Transforma unidades

3 dm = _____ cm

12 dm = _____ cm

7 cm = _____ mm

20 cm = _____ mm

2 dm = _____ mm

25 dm = _____ mm

3,1 dm = _____ cm

1,2 dm = _____ cm

7,26 cm = _____ mm


35,2 cm = _____ mm

17,3 dm = _____ mm

2 dm = _____ mm

Menores de 1 metro

METRO	decímetro	centímetro	milímetro
m	dm	cm	mm
1 m	10 dm	100 cm	1.000 mm



7.- Ordena de menor a mayor

1 m - 1 cm - 1 dm - 1 mm



1 m - 7 cm - 3 dm - 5 mm



8.- Completa con >, < o =

1 m _____ 100 cm

3 mm _____ 3000 m

4 dm _____ 40 cm

4,5 dm _____ 45 cm

50 mm _____ 5 cm

5 m _____ 500 dm

8 cm _____ 800 dm

35,2 cm _____ 352mm