


SATUAN BERAT

Nama / Kelas :

A. Perhatikan materi tentang satuan berat pada video berikut!



B. Dengarkan pesan suara dari guru dengan meng-klik gambar pengeras suara di bawah ini!



C. Jawablah pertanyaan berikut dengan memilih jawaban pada tombol dropdown!

1.



Timbangan di samping menggunakan satuan berat


2.



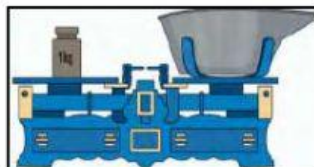
Timbangan di samping menggunakan satuan berat

D. Pilihlah jawaban yang tepat dengan meng-klik huruf A, B, atau C!

3. Timbangan yang menggunakan satuan berat kilogram ditunjukkan oleh gambar



A



B



C

E. Berilah tanda centang (V) pada gambar yang sesuai dengan ukuran berat benda!

4.

1kg


☐

☐

☐

☐

F. Pasangkan gambar berikut dengan berat benda yang sesuai menggunakan garis! (pastikan ikon pensil muncul untuk membuat garis)

5.



1kg

6.



3kg

7.



5kg

G. Urutkan gambar di bawah ini berdasarkan berat benda mulai dari yang paling ringan, kemudian letakkan pada kotak H. yang tersedia!

H. yang tersedia!



--	--	--	--