

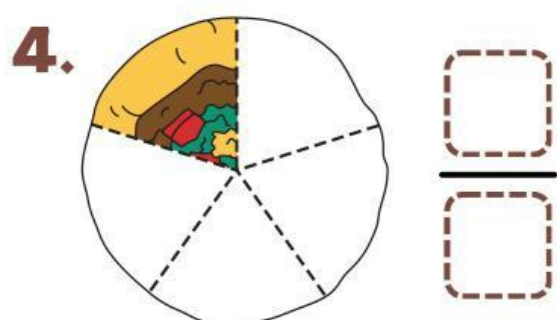
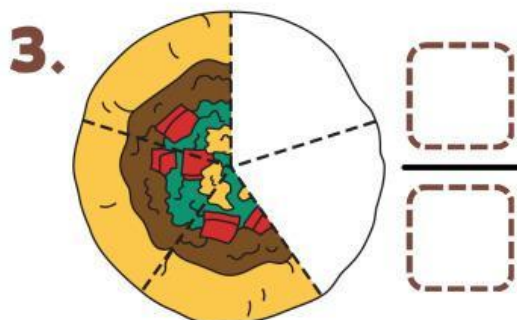
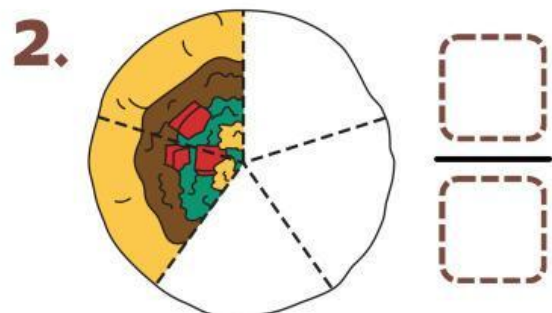
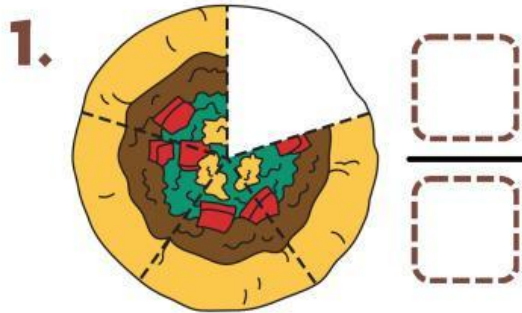
LKPD

Nama : _____

Kelas : _____

Menentukan Pecahan

Tentukan nilai pecahan dari setiap bagian pizza.



5. Ibu membeli 1 semangka, dipotong menjadi 4 dan dibagikan kepada ke 4 anaknya, maka setiap anak menerima ... bagian

6. Kakak mempunyai 8 kelereng, setengahnya dibagikan kepada adik. berapa kelereng yang kakak punya sekarang...