


LKPD



Matematika

Tema:

Bangun Datar



Nama kelompok :

- 1.....
- 2.....
- 3.....
- 4.....

Kelas:

BANGUN DATAR



Berikan tanda centang pada jawaban di bawah ini!

1

Bangun datar yang memiliki satu titik pusat adalah ...

Trapesium

Segitiga

Persegi

Lingkaran

2

Bangun datar yang memiliki 4 sisi sama panjang adalah ...

Persegi panjang

Segitiga

Persegi

Lingkaran

3

Bangun datar yang memiliki 3 sisi adalah ...

Segitiga

Trapesium

Persegi

Lingkaran

4

Bangun datar yang berbentuk lingkaran adalah...

Buku

Jam dinding

Meja

Papan tulis

5

Bangun datar yang berbentuk bulat disebut ...

Layang-layang



Segitiga

Persegi

Lingkaran

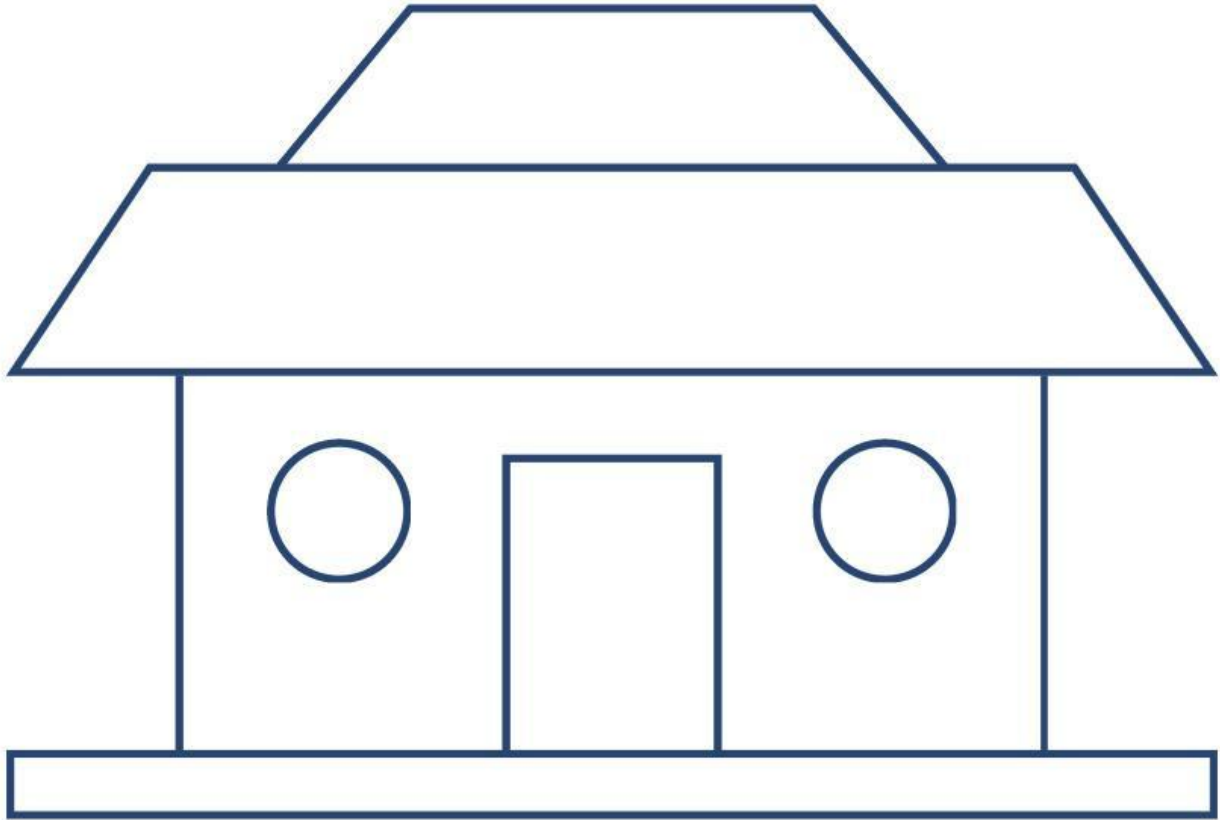
Menyusun Bentuk Bangun Datar

Susun beberapa bangun datar berikut, tarik garis dengan hasil susunan bangun datar yang tepat.



DEKOMPOSISI BANGUN DATAR

Tuliskan jumlah dan nama bangun datar yang tersusun dengan tepat!



Nama Bangun Datar	Jumlah Bangun Datar