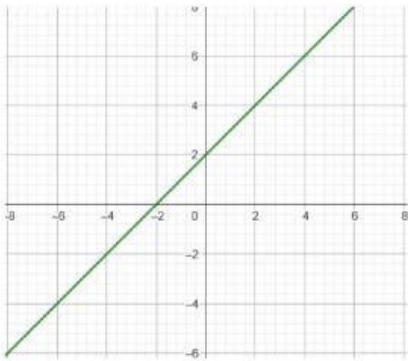




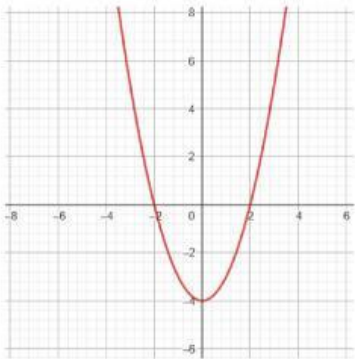
Nombre: \_\_\_\_\_ Grado: 11 \_\_\_\_\_

Une cada gráfica con sus respectivos interceptos:



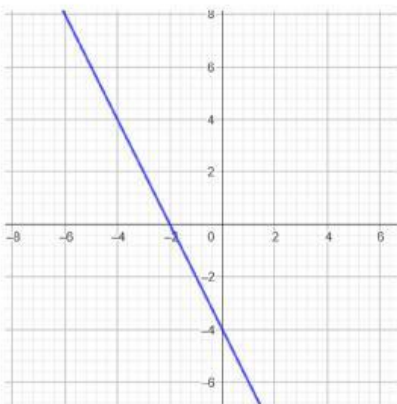
En x: (-2,0) y (2,0)

En y: (0,-4)



En x: (-2,0)

En y: (0,-4)



En x: (-2,0)

En y: (0,2)