

# LKPD

Nama : \_\_\_\_\_

Kelas : \_\_\_\_\_

## PENYAJIAN DATA DALAM DIAGRAM LINGKARAN

PERHATIKAN VIDEO BERIKUT INI!

1.



PERHATIKAN MATERI PRESENTASI BERIKUT:

2.



3. APA YANG DIMAKSUD DENGAN DATA?

### Pertanyaan

Berapakah presentase penjualan seragam pada tahun 2023?

.....

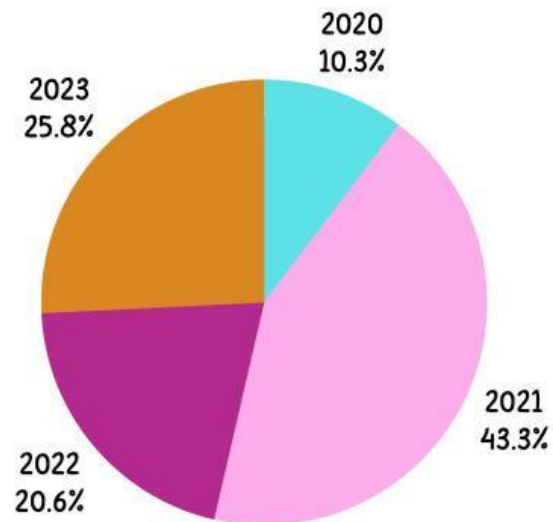
Berapakah presentase penjualan pada tahun 2020 hingga 2023?

.....

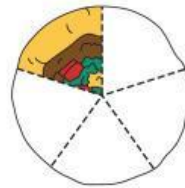
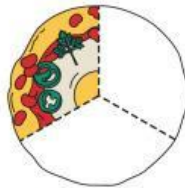
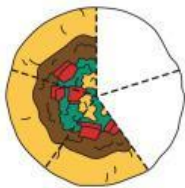
Data penjualan seragam paling banyak terjadi di tahun?

.....

### Data Penjualan Seragam Sekolah



4. Manakah gambar pizza yang menunjukkan pecahan  $\frac{2}{3}$ ?



5. CARI KATA YANG BERKAITAN DENGAN PENYAJIAN DATA

D	I	A	G	R	A	M	P
T	A	B	E	L	D	A	T
G	R	A	F	I	K	X	Y
Q	W	E	R	T	Y	U	I
M	O	D	U	S	A	S	D
Z	X	C	V	B	N	M	E
H	I	S	T	O	G	R	A
P	Q	W	E	R	T	Y	U

## 6. TARIK GARIS UNTUK MEMASANGKAN JENIS PENYAJIAN DATA DENGAN PENJELASAN YANG TEPAT

No	Nama	Nilai
1	Andi	80
2	Budi	90
3	Cici	75

Menampilkan data menggunakan gambar atau simbol yang mewakili jumlah tertentu.

Menyajikan data dalam bentuk baris dan kolom untuk memudahkan membaca dan membandingkan data.

Menunjukkan perbandingan jumlah antar kategori menggunakan batang tegak atau mendatar.

Menunjukkan perubahan data dari waktu ke waktu menggunakan titik yang dihubungkan dengan garis.

Nama Buah	Jumlah (buah)
Apel	4
Jeruk	4
Mangga	2

Menunjukkan bagian-bagian dari keseluruhan data dalam bentuk lingkaran.

## 7. SEBUTKAN JENIS PENYAJIAN DATA BERIKUT INI DENGAN TEPAT!

a.

Nama Buah	Jumlah (buah)
Apel	8
Jeruk	6
Mangga	10
Pisang	4




b. Jumlah Buah Kesukaan Siswa

