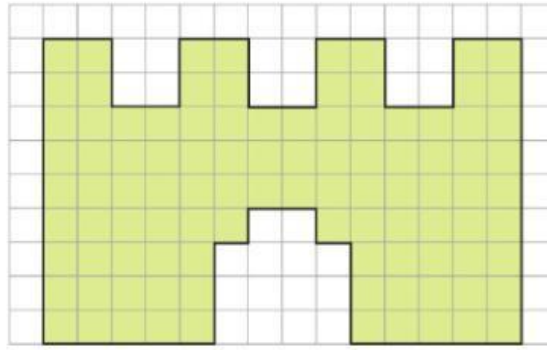
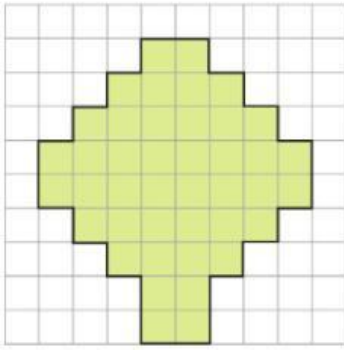


Ora misura la superficie di ogni figura usando il quadretto come unità di misura.



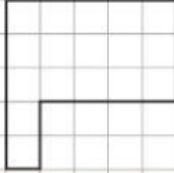
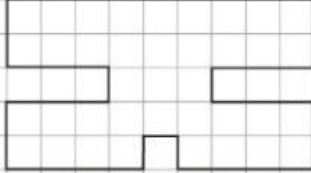
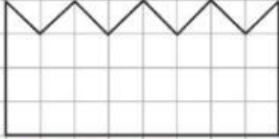
IMPARO!

La **misura** della superficie di una figura è detta **area**.

misura della superficie → 

misura della superficie → 

1 Per ogni figura colora la **superficie** e scrivi qual è la sua **area**.

		
Area = <input type="checkbox"/>	Area = <input type="checkbox"/>	Area = <input type="checkbox"/>