

Dibuat oleh:
Anwar, S.Pd
UPTD SPF SDN Pecalongan 1 Sukosari

Nama :

Kelas :

Nomor :

TEMA 7. PERKEMBANGAN TEKNOLOGI
SUBTEMA 1. PERKEMBANGAN TEKNOLOGI PRODUKSI PANGAN

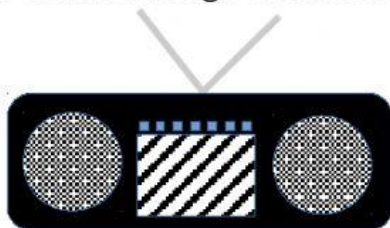
1. Lihatlah video proses pembuatan tempe berikut ini!



PERTANYAAN


Setelah menyaksikan video di atas, Informasi apa yang kalian dapatkan?

2. Simaklah lagu berikut ini!



Pencipta lagu yang sudah kalian simak adalah

3. Perhatikanlah gambar berikut ini!



Luas bangun di samping adalah . . .
persegi satuan.

a. 5

c. 7

b. 6

d. 8

4. Perhatikanlah gambar berikut ini!

Olahan makanan berikut yang terbuat dari kedelai.



Tempe



Roti



Tapai

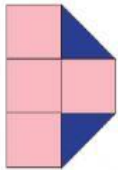


Tahu

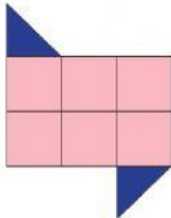


Kecap


5. Jodohkanlah bangun berikut ini dengan luasnya!



7 persegi satuan

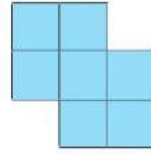
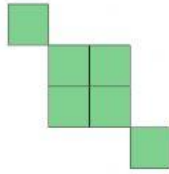
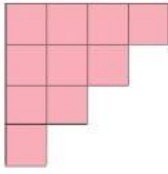


6 persegi satuan



5 persegi satuan

6. Masukkanlah bangun berikut ini pada kotak yang sesuai dengan luasnya.



7 persegi satuan	10 persegi satuan	6 persegi satuan