

LECCIÓN DE COMPUTACIÓN CUARTO DE EDUCACIÓN GENERAL BÁSICA

Nombre: _____ Paralelo: _____

Docente: Lcda. Anais Lino Cedeño

1. COMPLETE EL NOMBRE DE LAS PARTES DEL TECLADO



TE__LAS ALF__NU__ERI__AS



TECLAS N__M__R__C__S



2. UNE CON LÍNEA SEGÚN CORRESPONDA




A) teclas
numéricas



B) teclas
alfanuméricas



C) teclas
de edición



D) teclas de
dirección



E) teclas
de función

3. ENCUENTRA LAS PALABRAS EN LA SOPA DE LETRA

A	C	S	H	I	F	T	T	D	E	N
C	F	U	N	C	I	Ó	N	D	Ó	O
S	A	L	F	A	B	É	T	I	C	O
U	I	S	Z	N	N	R	C	I	S	L
P	T	U	M	W	E	A	R	W	O	E
R	Ó	U	S	T	G	É	O	R	E	D
I	M	É	N	E	M	D	T	C	S	E
M	O	E	V	U	N	N	Y	U	C	E
I	R	A	N	I	O	S	N	O	A	R
R	N	A	W	C	I	O	E	N	P	A
S	S	E	S	P	A	C	I	O	E	T

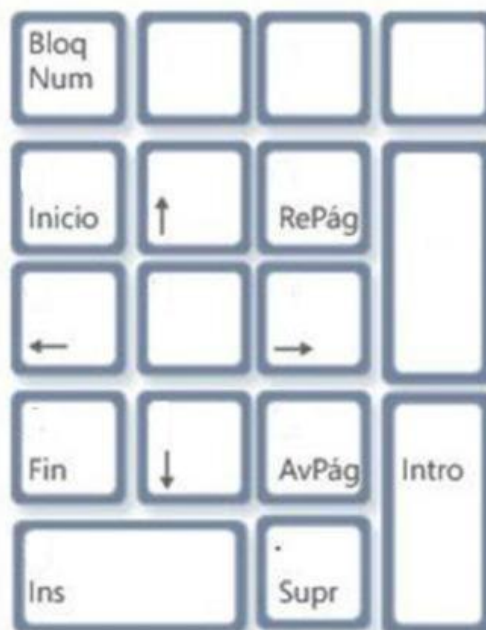
Palabras a encontrar:

CONTROL
ENTER
SHIFT
ESPACIO


FUNCIÓN
NAVEGACIÓN
NUMÉRICO
WINDOWS

ALFABÉTICO
SUPRIMIR
ESCAPE

4. IDENTIFIQUE Y COMPLETE EL TECLADO NUMÉRICO



5. UBIQUE SEGÚN CORRESPONDA LAS TECLAS DIRECCIONALES



6. UNIR CON LÍNEA SEGÚN CORRESPONDA