
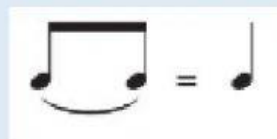
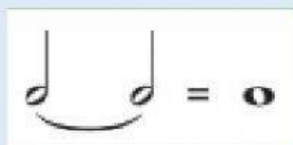
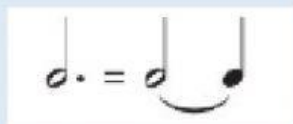
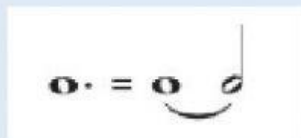


Escribe con números la duración total de las siguientes figuras con puntillo y ligadura:



Indica el nombre de los siguientes intervallos:



Selecciona como se leen cada una de las siguientes figuras musicales:

