

# МАТЕМАТИКА

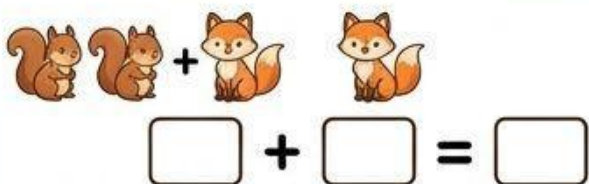
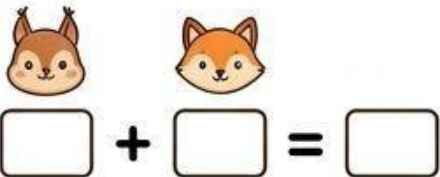
## ҚОСУ МЕН АЗАЙТУ

### ЖҰМЫС ПАРАҒЫ



### Сана және Қос

Суреттерге қарап, есепті шығар.



### Кім көп?

Сәйкестіндір және шеш.



Қоян



Аю



Тиін




### Азайтуды үйрен

Суреттегілерді сыз және қанша қалғанын жаз.



### Есепті шеш және жаз

Теңдіктерді аяқта.



$5 - 2 = \square$

$4 - 3 = \square$

$6 - 5 = \square$



$7 - 3 = \square$

$5 - 3 = \square$

$6 - 3 = \square$



### Сандарды қой

Берілген сандарды орнына қой.

4

7

3

Биыл мен \_\_\_\_\_ жасқа толдым.

Біздің сыныпта \_\_\_\_\_ бала бар.

Екі \_\_\_\_\_ қоссақ бес болады.



### Логикалық сұрақтар

Сұрақтарға жауап бер.

Егер талдан 2 жапырақ түссе және 3-і қалса, талда қанша жапырақ болған? \_\_\_\_\_

Егер талдан 2 жапырақ түссе және 3-і қалса, талда қанша жапырақ болған? \_\_\_\_\_

Егер талдан 2 жапырақ түссе және 3-і қалса, талда қанша жапырақ болған? \_\_\_\_\_

