

MATAI IR MATAVIMAI

1. Palygink.

4 t.

2 kg 5 g 2 500 g

3 h 40 min 220 min

4 km 800 m 4 008 m

8 l 35 ml 8 350 ml

2. Atlik veiksmus.

4 t.

$$+ \begin{array}{r} 23\text{ m } 14\text{ cm} \\ 62\text{ m } 98\text{ cm} \\ \hline \end{array}$$

$$- \begin{array}{r} 24\text{ val. } 15\text{ min.} \\ 11\text{ val. } 35\text{ min.} \\ \hline \end{array}$$

$$\times \begin{array}{r} 2\text{ t } 324\text{ kg} \\ 4 \\ \hline \end{array}$$

$$21\text{ Eur } 54\text{ ct} : 6 =$$

3. Apskaičiuok, kiek bus $\frac{4}{7}$ šių dydžių.

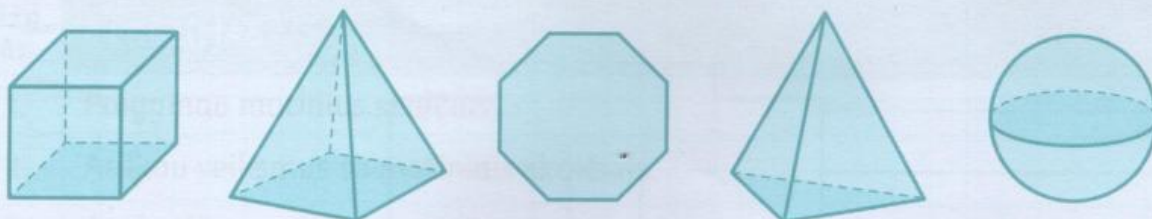
2 t.

2 km 198 m

1 m 26 cm


6. Apibrauk figūrą, turinčią 8 briaunas.

1 t.



7. Parašyk, kiek kokių kampų turi pavaizduota figūra.

3 t.



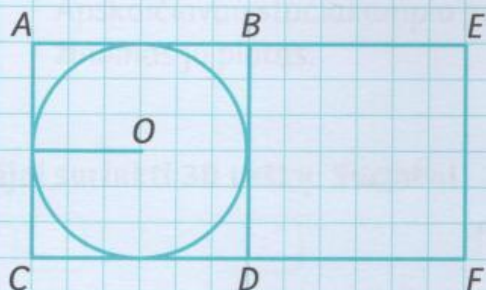
Smailieji kampai

Statieji kampai

Bukieji kampai


8. Kvadrato $ABDC$ kraštinių ilgis toks pat kaip kvadrato $BEFD$. Į kvadratą $ABDC$ įbrėžto apskritimo spindulio ilgis 6 cm. Apskaičiuok stačiakampio $AEFC$ plotą.

3 t.



9. Nubraižyk figūrai tiesės atžvilgiu simetrišką figūrą.

1 t.




10. Nubraižyk 3 cm 5 mm kraštinės ilgio kvadratą. Padalyk šį kvadratą į dvi dalis taip, kad gautum du lygiašonius trikampius.

2 t.

11. Stačiakampio $KLMN$ plotas 200 cm^2 . Remdamasis brėžiniu apskaičiuok šio stačiakampio perimetrą.

3 t.



Apmąstau ir įsivertinu kiekvieną atliktą užduotį.

Užd. nr.	GEBĖJIMAS	☹	☺
1.	Palyginau matinius skaičius.	○	○
2.	Atlikau veiksmus su matiniais skaičiais.	○	○
3.	Apskaičiavau skaičiaus dalį.	○	○
4.	Apskaičiavau ir palyginau laiko trukmę.	○	○
5.	Išsprendžiau uždavinį su vertės matavimo vienetais.	○	○
6.	Atpažinau figūrą, turinčią 8 briaunas.	○	○
7.	Atpažinau kampų rūšis.	○	○
8.	Apskaičiavau stačiakampio kraštinių ilgius ir jo plotą.	○	○
9.	Nubraižiau tiesės atžvilgiu simetrišką figūrą.	○	○
10.	Nubraižiau kvadratą ir padalijau jį į du lygiašonius trikampius.	○	○
11.	Apskaičiavau stačiakampio perimetrą, kai žinomas jo plotas.	○	○

Galėjai surinkti 30 taškų. Surinkai _____.

0–4 taškai	5–8 taškai	9–17 taškų	18–26 taškai	27–30 taškų
Tau reikia pagalbos!	Naudokis pagalba ir Tau pavyks!	Atreipk dėmesį į tai, ką būtina išmokti!	Tau sekasi gerai! Pagalvok, kaip galėtum pasiekti dar daugiau.	Tavo pasiekimai puikūs. Šauniai padirbėjai!

KOMENTARAI:
