

MATEMÁTICAS. CONTROL TEMA 11

NOMBRECURSO.....NÚMERO


1 Dibuja las horas en estos relojes: (1,5 puntos)



Las 2 y 25




Las 5 y cuarto



Las 10 menos 20



Las 9 y media



Las 7 menos 5

2 ¿Qué horas marcan estos relojes? (1,5 puntos)



3 Escribe las horas en estos relojes digitales (1,5 puntos)

4 menos 5 (tarde)

9 y 25 (noche)

4 y 10 (noche)

4 Lee las horas en estos relojes digitales poniendo mañana, tarde, noche, etc. (1,5 puntos)

19 : 40

.....
.....

17 : 15

.....
.....

04 : 00

.....
.....

5 Transforma: (1 punto)

En minutos

5 horas y 45 minutos =


En minutos y horas

93 minutos =

6. Dibuja los billetes y monedas que necesitas para pagar estos artículos: (1 punto)



19, 40 €



6, 85 €

7. Luis compró 2 bolígrafos por 70 céntimos cada uno, un cuaderno por 2,80 € y una carpeta que le costó 2,20 €. Si pagó con 2 billetes de 5 €, ¿cuánto le devolvieron? (1 punto)

DATOS

1 bolígrafo= 70 cts

1 bolígrafo= 70 cts

1 cuaderno: 2,80 euros

1 carpeta : 2,20 euros

OPERACIONES

Paga: 2 billetes de 5 euros

SOLUCIÓN:

María fue de viaje y se trajo de recuerdo un imán que le costó 3,10 €. Si le devolvieron 6,90 €, ¿con cuánto dinero pagó? (1 punto)

DATOS

imán= 3,10 euros

Le devuelven= 6,90 euros

OPERACIONES

SOLUCIÓN: