

DOKUMEN MADRASAH
SANGAT RAHASIA



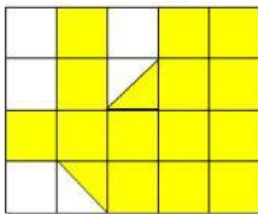
Nama	:
No.Absen	:

**SUMATIF AKHIR SEMESTER GENAP  
MADRASAH IBTIDAIYAH FSM TEMPUREJO  
TAHUN PELAJARAN 2025 / 2026**

<b>Mata Pelajaran</b> :	<b>Matematika</b>	<b>Hari /</b>	:
<b>Kelas</b> :	<b>Empat (IV)</b>	<b>Tanggal</b>	:
		<b>Waktu</b>	: -

**I. Berilah tanda silang (X) pada huruf A, B, C atau D pada jawaban yang benar pada lembar jawab yang tersedia!**

1. Perhatikan gambar berikut.



Luas bangun datar disamping adalah ... cm<sup>2</sup>

- a. 14
- b. 15
- c. 16
- d. 17

2. Perhatikan gambar berikut.



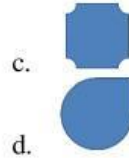
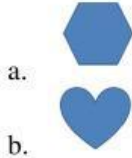
Pernyataan berikut yang sesuai adalah...

- a. Volume galon sama dengan volume 5 botol kemasan.
  - b. Volume galon lebih banyak daripada 5 botol kemasan.
  - c. Volume 5 botol kemasan lebih banyak daripada volume galon.
  - d. Volume galon tidak sama dengan volume 5 kemasan botol.
3. Bangun berikut yang mempunyai volume 10 kubus satuan adalah...

- a.
- b.
- c.



4. Bangun berikut yang termasuk segi banyak adalah...



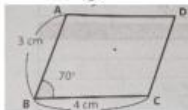
5. Perhatikan gambar berikut!



yang **bukan** merupakan ciri-ciri persegi panjang adalah...

- Mempunyai dua pasang sisi yang sama panjang
- Mempunyai dua pasang sisi sejajar
- Mempunyai empat sudut siku-siku
- Mempunya empat sisi yang sama panjang


6. Perhatikan gambar berikut!



Pernyataan berikut yang sesuai dengan bangun disamping adalah...

- Panjang sisi CD adalah 4 cm
- Panjang sisi AD adalah 3 cm
- Besar sudut  $A=C=120^\circ$
- Besar sudut D adalah  $70^\circ$






7. Perhatikan gambar berikut !



Pernyataan berikut yang sesuai adalah...

- Banyak segitiga siku-siku penyusun bangun ada 3
- Banyak segitiga sama sisi penyusun bangun ada 3
- Banyak jajar genjang penyusun bangun ada 1
- Banyak persegi penyusun bangun ada 3

**Diagram berikut untuk mengerjakan soal nomor 8, 9, dan 10**  
**Piktogram Alat Tulis**








Alat Tulis	Jumlah
Pensil	
Buku	
Penggaris	
Gunting	
Penghapus	

8. Alat tulis yang persediaannya sebanyak 10 buah adalah...
  - a. Pensil
  - b. Buku tulis
  - c. Penggaris
  - d. Gunting
9. Alat tulis yang persediaannya paling banyak adalah...
  - a. Pensil
  - b. Buku tulis
  - c. Penggaris
  - d. Gunting
10. Urutan persediaan alat tulis dari yang paling sedikit yang benar adalah...
  - a. Gunting, penghapus, penggaris, pensil, buku tulis
  - b. Gunting, penggaris, penghapus, buku tulis, pensil
  - c. Gunting, penggaris, buku tulis, pensil, penghapus
  - d. Gunting, pensil, buku tulis, penghapus, penggaris.

**Diagram berikut untuk mengerjakan soal nomor 11 sampai 13**

Diagram Gambar Hasil Panen Padi Selama 6 Bulan

**Gambar 1 Diagram Gambar**

Bulan	Hasil panen (  = 100 ton)
Januari	
Februari	
Maret	
April	
Mei	
Juni	

11. Pernyataan berikut yang sesuai dengan diagram gambar diatas adalah...
  - a. Panen padi paling banyak terjadi pada bulan April
  - b. Panen padi paling sedikit terjadi pada bulan Maret
  - c. Selisih panen pada bulan Mei dan Juni adalah 50 ton
  - d. Jumlah panen padi pada bulan Januari dan Februari adalah 500 ton
12. Hasil panen padi yang banyaknya sama terjadi pada bulan
  - a. Januari dan Februari
  - b. Maret dan April
  - c. Mei dan Juni
  - d. Januari dan Juni

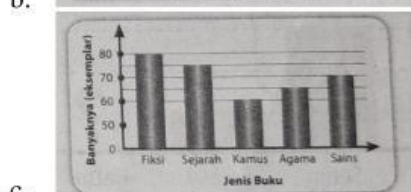
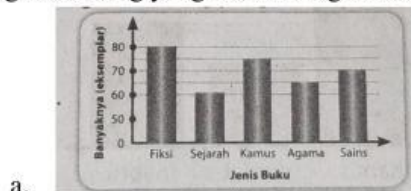
13. Jumlah seluruh panen padi selama enam bulan ketika dijumlahkan adalah...

- a. 1.700 ton
- b. 1.800 ton
- c. 1.900 ton
- d. 2.000 ton

14. Berikut data peminjaman buku perpustakaan MI Pertiwi selama bulan Agustus 2025.

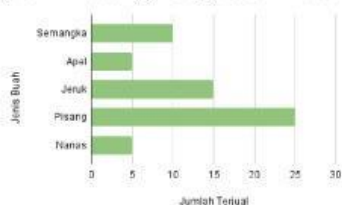
No.	Jenis Buku	Banyaknya (Eksemplar)
1	Fiksi	80
2	Sejarah	75
3	Kamus	60
4	Agama	70
5	Sains	65

Diagram batang yang sesuai dengan data di atas adalah...



Perhatikan diagram berikut untuk mengerjakan soal nomor 15 dan 16.

Diagram Batang Penjualan Buah (Per Kg) Selama Sehari



15. Pernyataan berikut yang sesuai dengan diagram batang adalah...

- a. Penjualan buah semangka sebanyak 15 kg
- b. Penjualan buah apel lebih banyak dari pada penjualan buah jeruk
- c. Buah yang terjual paling banyak adalah buah pisang sebanyak 25 Kg
- d. Buah yang terjual paling sedikit adalah buah nanas sebanyak 10 Kg

16. Tafsiran berikut yang benar berdasarkan diagram batang tersebut adalah...

- Jumlah penjualan buah semangka dan buah apel adalah 15 Kg.
- Jumlah penjualan buah jeruk dan buah pisang adalah 35 Kg.
- Selisih penjualan buah pisang dan buah nanas adalah 25 Kg.
- Banyak buah yang terjual sama adalah buah jeruk dan semangka.

Diagram berikut untuk soal nomor 17 sampai 19.



Total penjualan telur asin selama enam hari adalah 90 butir.

17. Jumlah penjualan telur asin pada hari Rabu dan hari Kamis adalah...

- 60 butir
- 55 butir
- 50 butir
- 45 butir

18. Tafsiran data berikut yang sesuai adalah...

- Penjualan telur asin pada hari Senin lebih sedikit daripada penjualan pada hari Jumat.
- Penjualan telur asin paling banyak terjadi pada hari Kamis, yaitu sebanyak 30 butir.
- Penjualan telur asin pada hari Jumat lebih banyak daripada penjualan pada hari Sabtu.
- Penjualan telur asin pada hari Senin dan Sabtu sama banyak, yaitu sebanyak 15 butir.

19. Sebutir telur asin dijual dengan harga Rp 2.500,00. Besar pendapatan dari penjualan telur asin adalah...

- Rp 180.000,00
- Rp 200.000,00
- Rp 220.000,00
- Rp 240.000,00

20. Konversikan satuan volume berikut!

6 l = ... ml

- 6 ml
- 60 ml
- 600 ml
- 6000 ml

**II. Pilihan Ganda Kompleks Tipe MCMA (Multiple Choice Multiple Answer)**

Ayo, memilih dua jawaban benar dengan memberi tanda silang (x) pada huruf a, b, c atau d!

21. Bidang berikut yang mempunyai luas 7 persegi satuan adalah...



22. Perhatikan diagram berikut!

**Diagram Gambar Mainan Zhea**

Mainan	Banyak Mainan
Boneka	
Robot	
Mobil	
Pesawat	

Pernyataan berikut yang *tidak sesuai* diagram gambar tersebut adalah...

- a. Banyak boneka mainan Zhea sama dengan banyak robot.
- b. Banyak mainan robot Zhea lebih banyak dari pada banyak boneka
- c. Mainan Zhea yang paling banyak adalah pesawat yaitu sebanyak 3
- d. Mainan Zhea yang paling sedikit adalah mobil yaitu sebanyak 2

**III. Pilihan Ganda Kompleks Tipe Kategori**

23. Perhatikan gambar berikut!

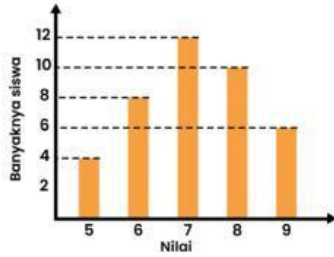
Diagram Buah Kesukaan


Berilah tanda centang pada buah yang disukai lebih dari 6 anak adalah...

...	Apel
...	Jeruk
...	Semangka
...	Strawberry

Diagram berikut untuk mengerjakan soal nomor 24 dan 25

Diagram Batang Nilai Ulangan Harian Siswa Kelas 4 MI Suka Jaya



24. Berilah tanda centang pada pernyataan yang sesuai dengan diagram di atas.

...	Banyak siswa yang mendapat nilai 7 ada 12 anak
...	Banyak siswa yang mendapat nilai 5 ada 8 anak.
...	Banyak siswa yang mendapat nilai 8 ada 10 anak.
...	Banyak siswa yang mendapat nilai 9 ada 7 anak.

25. Berilah tanda centang pernyataan benar atau salah sesuai diagram batang di atas.

Pernyataan	Benar	Salah
Siswa yang mendapat nilai 5 lebih banyak daripada siswa yang mendapat nilai 6		
Siswa yang mendapat nilai 6 lebih sedikit daripada siswa yang mendapat nilai 7		
Siswa yang mendapat nilai 7 lebih banyak daripada siswa yang mendapat nilai 8		
Siswa yang mendapat nilai 8 lebih sedikit daripada siswa yang mendapat nilai 9		