



20

حل بمفرده	
حل بمساعدة المعلمة	
لم يحل	

قسم الحوسبة وتكنولوجيا المعلومات  
تقييم شامل للمهارات النظرية نهاية الفصل الثاني  
الصف الثاني

الاسم: ..... الصف: الثاني التاريخ: ..... / 5 / 2026



الاختبار النظري

الاختبار العملي

الوحدة الثانية: أنا أזור العالم

الدرس الرابع: الألعاب التعليمية

كتاب الطالب : من صفحة 46 إلى 47

كتاب التدريبات والأنشطة صفحة 39

الوحدة الثالثة: الرمجة الرسومية

الدرس الأول: بدء استخدام برنامج TurtleArt .

كتاب الطالب : صفحة 55

كتاب التدريبات والأنشطة صفحة 45

الدرس الثاني: تحريك السلحفاة.

كتاب الطالب : صفحة 66

كتاب التدريبات والأنشطة: من صفحة 47 إلى 51

الدرس الثالث: رسم الأشكال.

كتاب الطالب من صفحة 68 إلى 74

كتاب التدريبات والأنشطة من صفحة 53 إلى 55

الوحدة الثالثة: الرمجة الرسومية

الدرس الأول: بدء استخدام برنامج TurtleArt .

كتاب الطالب : من صفحة 56 إلى 57

كتاب التدريبات والأنشطة صفحة 45

الدرس الثاني: تحريك السلحفاة.

كتاب الطالب : من صفحة 58 إلى 67

كتاب التدريبات والأنشطة: من صفحة 47 إلى 51

الدرس الثالث: رسم الأشكال.

كتاب الطالب من صفحة 68 إلى 74

كتاب التدريبات والأنشطة من صفحة 53 إلى 55

الوحدة الثانية الدرس الرابع: الألعاب التعليمية من صفحة 46 إلى 47

السؤال الأول: صل بين عمودين.

2



1  
من خدمات الإنترنت  
تستطيع أن ترى العالم.



Google Earth

2  
من خدمات الإنترنت  
مكتبة قطر الوطنية.

السؤال الثاني: أجب عن الأسئلة بوضع علامة صح (✓) أسفل الصورة المناسبة

2

من خدمات الانترنت زيارة المتاحف.



الوحدة الثالثة الدرس الأول: بدء استخدام برنامج TurtleArt صفحة 55

السؤال الثالث: اختر الإجابة الصحيحة:

2

1- لغة خاصة لإصدار الأوامر للحاسوب.

لغة الإشارة

اللغة العربية

لغة الحاسوب

السؤال الرابع: صل بين عمودين.

2



TurtleArt

الأوامر.

1



برنامج يستخدم أوامر بسيطة لرسم أشكال هندسية ورسومات فنية.

2

السؤال الخامس: أجب عن الأسئلة بوضع علامة صح (✓) أسفل الصورة المناسبة.

2

1- برنامج يستخدم أوامر بسيطة لرسم أشكال هندسية ورسومات فنية.



الوحدة الثالثة الدرس الثاني: تحريك السلحفاة صفحة 66

2

السؤال السادس: اختر الإجابة الصحيحة.

1- الخط الذي تتركه السلحفاة خلفها وهي تسير.

الكتاب

الممحاة

القلم

2- أداة القلم التي تستخدم لرسم خط في برنامج السلحفاة تسمى.

القلم للييسار

Pen left

القلم لأعلى

Pen up

القلم لأسفل

Pen Down

الوحدة الثالثة الدرس الثالث : رسم الأشكال من صفحة 68 إلى 74

السؤال السابع: اختر الإجابة الصحيحة

1- جميع الخطوات وضعت بالترتيب الصحيح.

2


الأشكال

الرسم

التسلسل

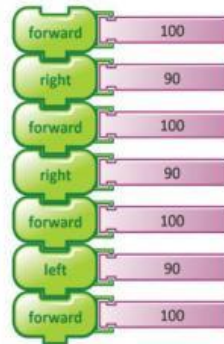

السؤال الثامن: صل بين عمودين.

2



شكل له أربع أضلاع لها نفس القياس.

1

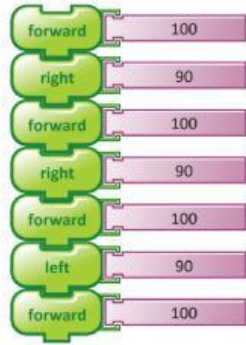


الخطأ في برنامج رسم المربع التالي.



2

السؤال التاسع: أجب عن الأسئلة بوضع علامة صح (✓) أسفل الصورة.

4



1- الخطأ في خطوات رسم المربع التالي .



- تقدم للأمام 50 خطوة. (T)
- استدر لليمين 90. (C)
- تقدم للأمام 100 خطوة. (T)
- استدر لليمين 90. (C)
- تقدم للأمام 50 خطوة. (T)
- استدر لليمين 90. (C)
- تقدم للأمام 100 خطوة. (T)

2- الشكل الذي سيتم رسمه من الأوامر التالية.

