



PEMERINTAH KABUPATEN PASURUAN
DINAS PENDIDIKAN
ASESMEN SUMATIF AKHIR JENJANG SEKOLAH DASAR
TAHUN AJARAN 2025/2026

Mata Pelajaran : I P A S	Nama :
Kelas/Semester : VI (Enam)/ II (Dua)	Nomor : x
Hari/Tanggal : Rabu, 20 Mei 2026	SD : SDN Pekangkungan
Waktu : 120 menit	Nilai : x

I. Klik/tekan huruf a, b, c, atau d di depan jawaban yang dianggap benar !

1. Kapur barus / kamper yang dibiarkan di terbuka lama-lama akan semakin mengecil dan habis. Perubahan wujud yang terjadi adalah...
- a. Penguapan b. Penguapan c. Penyubliman d. Pencairan

2. Perhatikan gambar berikut! Pengaruh gaya yang terjadi pada meja adalah...



- a. Gaya mengubah kecepatan gerak benda
b. Gaya mengubah arah gerak benda
c. Gaya menyebabkan benda bergerak
d. Gaya mengubah bentuk benda

3. Berikut ini yang merupakan peninggalan Kerajaan Budha adalah....

- a. Candi Prambanan c. Candi Borobudur
b. Candi Gedong Songo d. Candi Dieng

4. Pertunjukan Reog banyak ditemukan di berbagai daerah di Indonesia. Hal ini menunjukkan bahwa keberagaman budaya dapat menciptakan peluang di bidang....

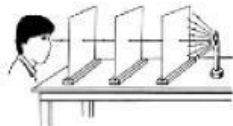
- a. Pariwisata b. Ekonomi c. Kesenian d. Pendidikan

5. Saat naik bus yang penuh sesak, seorang pemuda melihat seorang nenek berdiri. Ia kemudian mempersilakan nenek tersebut untuk duduk di kursinya. Perilaku pemuda tersebut menunjukkan ...

- a. Aturan tertulis b. Norma hukum c. Norma agama d. Norma kesopanan

6. Perhatikan gambar di bawah ini!

Sifat cahaya yang ditunjukkan pada gambar tersebut adalah

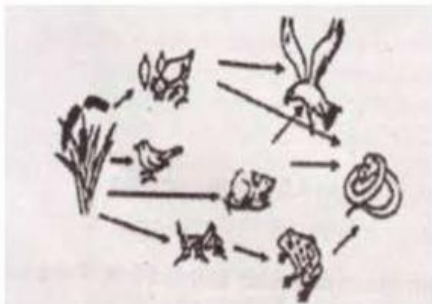


- a. Cahaya dapat dipantulkan
b. Cahaya dapat diuraikan
c. Cahaya merambat lurus
d. Cahaya dapat dibiaskan

7. Manakah dari hewan berikut yang termasuk karnivora?

- a. Kerbau b. Kelinci c. Bebek d. Harimau

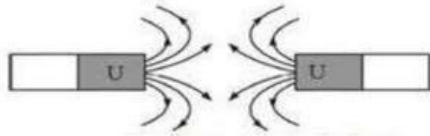
8. Perhatikan jaring-jaring makanan berikut:




Jika populasi katak menurun karena habitatnya rusak, makhluk hidup apa saja yang kemungkinan besar akan terpengaruh?

- a. Hanya belalang c. Hanya ular
b. Belalang dan ular d. Padi dan elang

9. Perhatikan gambar berikut!



Apa yang akan terjadi pada kedua magnet tersebut?


- Saling tarik-menarik
 - Saling tolak- menolak
 - Saling mendekat
 - Saling menempel
10. Manakah peristiwa berikut yang bukan termasuk faktor alam penyebab perubahan permukaan bumi?
- Abrasi
 - Erosi
 - Letusan gunung berapi
 - Penambangan batu bara
11. Daerah pesisir pantai memiliki keindahan alam bawah laut yang menakjubkan. Cara yang tepat untuk memajukan daerah tersebut adalah...
- Membangun banyak hotel mewah di atas terumbu karang.
 - Menangkap ikan dengan menggunakan pukat harimau
 - Mengembangkan wisata bahari yang berkelanjutan dan edukatif.
 - Mengubah pantai menjadi pelabuhan industry yang maju
12. Rangka manusia yang melindungi jantung dan paru-paru adalah
- Tulang tengkorak
 - Tulang rusuk
 - Tulang belakang
 - Tulang panggul
13. Gambar di bawah ini menunjukkan kelainan tulang yang disebut
- 
- Skoliosis
 - Kifosis
 - Lordosis
 - Rakitis
14. Kedatangan bangsa asing ke Indonesia berikut ini yang paling pertama adalah
- Inggris
 - Belanda
 - Portugis
 - Spanyol
15. Perhatikan tabel berikut ini!

Alasan Kegagalan	Perjuangan
Kurangnya strategi perang	Perang Aceh
Keterbatasan persenjataan	Perang Diponegoro
Keterbatasan persatuan dan kesatuan	Perang Padri
Taktik adu domba penjajah	Perang Banjar

Apa alasan utama kegagalan perjuangan Perang Padri dalam mengusir penjajah?

- Keterbatasan persenjataan
 - Taktik adu domba penjajah
 - Kurangnya strategi perang
 - Kurangnya persatuan dan kesatuan
16. Efek rumah kaca terjadi karena
- Panas matahari terperangkap di atmosfer bumi
 - Terjadinya peningkatan aktivitas gunung berapi
 - Adanya lubang di lapisan ozon
 - Penurunan jumlah tumbuhan di bumi
17. Manakah dari kegiatan berikut yang dapat membantu mengurangi emisi gas rumah kaca?
- Menggunakan kendaraan pribadi sesering mungkin
 - Membakar sampah plastik di halaman rumah
 - Menebang pohon untuk membuka lahan pertanian
 - Menghemat penggunaan listrik di rumah
18. Peristiwa apakah yang terjadi pada tanggal 16 Agustus 1945?
- Serangan bom atom oleh Amerika Serikat di Jepang
 - Penyusunan naskah proklamasi oleh Soekarno, Hatta, dan Ahmad Soebardjo
 - Jepang menyerah tanpa syarat kepada Sekutu
 - Penculikan Soekarno dan Hatta oleh golongan muda ke Rengasdengklok

III. Tekan/klik kolom “benar” bila pernyataan dianggap benar dan klik kolom “salah” bila pernyataan dianggap dianggap salah !

No.	Pernyataan	Benar	Salah
26	Kekuatan magnet yang paling besar terletak pada kutub selatan magnet		
27	Mayoritas penduduk Indonesia bekerja sebagai petani. Pernyataan tersebut menunjukkan bahwa Indonesia merupakan negara agraris .		
28	Revolusi bumi menyebabkan terjadinya fenomena berikut gerak semu harian matahari..		
29	 <p>Benda seperti pada gambar dapat menghasilkan energi listrik dari energi cahaya matahari.</p>		
30	Saat tumbuhan mulai berbunga dan cuaca mulai menghangat setelah musim dingin berakhir, maka wilayah tersebut sedang memasuki musim semi.		

IV. Jodohkan pernyataan berikut dengan jawaban yang tertera di sebelah kanan !

31. Bahan bakar alternatif seperti pada gambar berasal dari A. Komet



32. Bendera Pusaka Sang Merah Putih pertama kali dijahit oleh.. B. Musim panas

33. Siapakah yang dijuluki Bapak Proklamator Indonesia? C. Tumbuhan

34. Benda langit yang tersusun atas debu dan gas yang membeku adalah .. D. Fatmawati

35. Pada tanggal 21 Juni hingga 23 September, posisi kutub utara bumi lebih condong ke arah matahari. Dampak yang dirasakan oleh penduduk di Belahan Bumi Utara (BBU) mengalami .. E. Soekarno - Hatta