

WORKSHEET PENGAYAAN MATEMATIKA





Nama : _____

Kelas : _____

Aktivitas 1: Menyortir, Mengelompokkan, dan Menghitung Turus

Di meja belajar Edo, terdapat banyak benda yang berantakan. Mari kita bantu Edo mengelompokkan benda-benda tersebut!

Berikut adalah benda-benda di meja Edo:

- **Buku:** 
- **Pensil:** 
- **Penghapus:** 
- **Rautan:** 

Tugasmu:

Hitunglah banyak masing-masing benda di atas, lalu tuliskan bentuk **Turus** dan **Angka (Banyaknya)** pada tabel di bawah ini!

Nama Benda	Turus	Banyaknya (Angka)
Buku		
Pensil		
Penghapus		
Rautan		

Aktivitas 2: Menyajikan Data dengan Piktogram

Setelah menghitung benda di meja Edo, mari kita buat **Piktogram (Grafik Gambar)**.

Petunjuk:

Gambarlah satu senyuman (😊) untuk mewakili setiap 1 benda.

Tabel Piktogram Benda Edo

Nama Benda	Grafik Gambar (😊 = 1 benda)
Buku	
Pensil	
Penghapus	
Rautan	

Aktivitas 3: Membandingkan dan Mengurutkan Data

Lihatlah kembali tabel atau piktogram yang sudah kamu buat di atas untuk menjawab pertanyaan-pertanyaan berikut:

1. Benda apa yang jumlahnya **paling banyak**?

Jawab:

2. Benda apa yang jumlahnya **paling sedikit**?

Jawab:

3. Berapa **selisih** (perbedaan) jumlah Pensil dan Penghapus?

(*Tips: Jumlah Pensil dikurangi jumlah Penghapus*) Jawab: _____ - _____ = _____ benda.

4. Benda apa saja yang jumlahnya **lebih banyak daripada Rautan**?

Jawab:

5. Urutkan nama benda dari yang jumlahnya **paling sedikit ke paling banyak**!

Jawab:

Aktivitas 4: Tantangan Berpikir (Pengayaan)

Edo menemukan 2 buah Penghapus lagi di bawah laci meja dan memasukkannya ke dalam kotak.

- Berapa jumlah total Penghapus Edo sekarang?

Jawab: _____ + _____ = _____ penghapus.

- Apakah Penghapus sekarang menjadi benda yang paling banyak? Mengapa yaaa?

Jawab:
